

T.C.
MİLLÎ EĞİTİM BAKANLIĞI
ÖLÇME, DEĞERLENDİRME VE
SINAV HİZMETLERİ GENEL MÜDÜRLÜĞÜ



AÇIK ÖĞRETİM LİSESİ / MESLEKİ AÇIK ÖĞRETİM LİSESİ
2017 - 2018 ÖĞRETİM YILI
2. DÖNEM SINAVI

21 NİSAN 2018 Saat: 09.30

<u>DERS KODU VE ADI</u>	<u>SAYFA</u>	<u>DERS KODU VE ADI</u>	<u>SAYFA</u>	<u>DERS KODU VE ADI</u>	<u>SAYFA</u>
(132) TARİH – 2	2	(207) SEÇ. PSİKOLOJİ – 2	17		
(133) TARİH – 3	3	(221) SAĞLIK BİLG. VE			
(134) TARİH – 4	4	TRAFİK KÜLT. – 1	19		
(136) SEÇMELİ TARİH – 2	5	(243) FRANSIZCA – 4	20		
(141) T.C. İNK. T. ATATÜRK – 1	6	(244) FRANSIZCA – 5	21		
(151) COĞRAFYA – 1	7	(244) ALMANCA – 5	21		
(152) COĞRAFYA – 2	8	(544) TÜRK DİLİ VE EDEBİYATI – 4 22			
(156) SEÇMELİ COĞRAFYA – 2	9				
(157) SEÇMELİ COĞRAFYA – 3	11				
(158) SEÇMELİ COĞRAFYA – 4	12				
(164) MATEMATİK – 4	13				
(165) SEÇ. MATEMATİK – 1	14				
(181) ALMANCA – 1	15				
(182) İNGİLİZCE – 2	16				

ADAYLARIN DİKKATİNE!

- Her ders için 20 soru bulunmaktadır. Bu oturumda **180** dakikalık cevaplama süreniz vardır. Sınav başladıktan sonra ilk **30** dakika tamamlanmadan dışarı çıkmayınız.
- Sınav sırasında çanta, cep telefonu, saat, kablosuz iletişim sağlayan cihazlar ve kulaklık, kolye, küpe, bilezik, yüzük, broş ve benzeri eşyalar ile her türlü elektronik ve/veya mekanik cihazları yanınızda bulundurmayınız. Bu araçları yanınızda bulundurmanız ve kopya çekmeye teşebbüs etmeniz hâlinde sınavınız geçersiz sayılacaktır.
- Başvuru şartlarını taşımadığınız hâlde sınava girmeniz, kopya çekmeniz, başka adayın sınav evrakını kullanmanız, geçerli kimlik belgenizi ve sınav giriş belgenizi ibraz edemediğiniz durumlarda sınavınız geçersiz sayılacaktır.
- Sınavın değerlendirilmesi aşamasında, bilgisayar ortamında yapılan kopya analizinde sistemin ikili ve/veya toplu kopya tespiti hâlinde sınavınız geçersiz sayılacaktır.
- Adaylar, sınav kurallarına ve salon görevlilerinin tüm uyarılarına uymak zorundadır. Kurallara ve uyarılara uymayan adayların sınavları geçersiz sayılacaktır.**
- Sınav başladıktan sonra adayların salon görevlileri ve birbirleri ile konuşmaları; kalem, silgi vb. şeyleri istemeleri yasaktır.
- Adaylar sınav süresince, sınav giriş belgesi ile geçerli kimlik belgelerinden birinin aslını (fotoğraflı nüfus cüzdanı, pasaport veya sürücü belgesi) masalarının üzerinde bulundurmak zorundadır.
- Sınav evraklarını teslim etmeyen, soru kitapçıklarının sayfalarından bir kısmını eksik teslim edenlerin sınavları geçersiz sayılacaktır.**
- Sınav başlamadan önce kitapçığın arkasındaki açıklamaları okuyunuz.

BAŞLAYINIZ DENMEDEN SORU KİTAPÇIKLARINI AÇMAYINIZ.

1. OTURUM

(132) TARİH – 2

1. İslamiyet öncesi Arap Yarımadası'nda yaşayan kabileler arasında sık sık savaşlar yaşanmıştır. **Bu durum, aşağıdakilerden hangisine neden olmuştur?**
- A) Bilimsel çalışmaların hızlanmasına
B) Merkezi bir devlet oluşturulmasına
C) Ticaretin önem kazanmasına
D) Sözlü edebiyatın gelişmesine
2. **Aşağıdakilerden hangisi, Müslümanların Mekke'den Medine'ye hicret etme nedenlerinden biri değildir?**
- A) Ticaret yollarına sahip olmak istemeleri
B) Müşriklerin Hz. Muhammed'i öldürme kararı almaları
C) İslamiyet'i daha rahat yaymak istemeleri
D) Müşriklerin baskı ve zulümlerinden kurtulmak istemeleri
3. **Aşağıdaki olaylardan hangisi, İslam dünyasını olumlu etkilemiştir?**
- A) Moğol istilası B) Kerbela Olayı
C) Talas Savaşı D) Siffin Savaşı
4. **Kudüs, Müslümanlar tarafından ilk kez hangi halife döneminde fethedilmiştir?**
- A) Hz. Ebubekir B) Hz. Ömer
C) Hz. Osman D) Hz. Ali
5. **Aşağıdakilerden hangisi ilk Türk İslam Devletlerinden biri değildir?**
- A) Karahanlılar
B) Gazneliler
C) Büyük Selçuklu Devleti
D) Abbasiler
6. **Aşağıdakilerden hangisi Hz. Ömer Dönemi'nde yaşanan gelişmelerden biri değildir?**
- A) Ülke topraklarının yönetim birimlerine ayrılarak illere valiler atanması
B) Kur'an nüshasının çoğaltılıp diğer İslam ülkelerine gönderilmesi
C) Düzenli ordu ve ordugâh şehirlerinin kurulması
D) Askerî posta teşkilatının kurulması

7. Abbasiler, Emeviler gibi ırkçı bir politika izlememiş, Arap olmayanlara da hoşgörülü davranmışlardır. **Bu durum aşağıdakilerden hangisine ortam hazırlamıştır?**
- A) Halifelüğün saltanata dönüşmesine
B) İslam dünyasının Hristiyanlardan etkilenmesine
C) Görüş ayrılıklarının tamamen sona ermesine
D) İslamiyet'in Arap olmayanlar arasında yayılmasının hızlanmasına
8. **Aşağıdakilerden hangisi İslam tarihinde Dört Halife Dönemi'ni sona erdiren olaydır?**
- A) Hz. Ali'nin şehit edilmesi
B) Abbasi Devleti'nin kurulması
C) Deve Olayı'nın yaşanması
D) Mekke'ye hicret edilmesi
9. **Aşağıdaki gelişmelerden hangisi ile Hz. Muhammed Dönemi'nde Müslümanların siyasi varlığını Mekkeliler resmen tanımıştır?**
- A) Bedir Savaşı
B) Hayber'in fethi
C) Hudeybiye Antlaşması
D) Hicret
10. **Aşağıdakilerden hangisi Hz. Ali Dönemi'nde yaşanan gelişmelerden biridir?**
- A) Talas Savaşı
B) Hayber'in fethi
C) Yermük Savaşı
D) Siffin Savaşı
11. **Cahiliye Dönemi'nde Arap toplumu arasında gelişen sanat dalı aşağıdakilerden hangisinde birlikte verilmiştir?**
- A) Resim - Müzik
B) Mimarlık - Bale
C) Heykeltıraşlık - Opera
D) Şiir - Hitabet
12. **Nihavent Savaşı hangi halife döneminde yapılmıştır?**
- A) Hz. Ali B) Hz. Osman
C) Hz. Ömer D) Hz. Ebubekir
13. **Mevaliden alınan cizye vergisini kaldıran Emevi halifesi aşağıdakilerden hangisidir?**
- A) Yezit
B) I. Velit
C) Abdülmelik
D) Ömer Bin Addülaziz

14. **Aşağıdakilerden hangisi İslami bilimlerden biri değildir?**
- A) Coğrafya B) Fıkıh
C) Tefsir D) Hadis
15. **İslamiyet'i kabul eden ilk Türk topluluğu aşağıdakilerden hangisidir?**
- A) Avarlar B) Türgişler
C) Karluklular D) Oğuzlar
16. **İslamiyet'i ilk kabul eden Karahanlı hükümdarı aşağıdakilerden hangisidir?**
- A) II. Kılıç Arslan
B) Satuk Buğra Han
C) Yusuf Kadir Han
D) Alp Arslan
17. **Hindistan'a 17 sefer düzenleyerek bölgede İslamiyet'in yayılmasını sağlayan hükümdar aşağıdakilerden hangisidir?**
- A) Tuğrul Bey B) Mete
C) Attila D) Gazneli Mahmut
18. **Kutadgu Bilig adlı eserin yazarı aşağıdakilerden hangisidir?**
- A) Yusuf Has Hacib
B) Kaşgarlı Mahmut
C) Nizamülmülk
D) İbn-i Sina
19. **Malazgirt Savaşı aşağıdakilerden hangisi döneminde yapılmıştır?**
- A) Tuğrul Bey
B) Alp Arslan
C) Sencer
D) Melikşah
20. **Büyük Selçuklu Devleti'nde mali işlerle hangi divan ilgilenirdi?**
- A) Divan-ı İnşa
B) Divan-ı İşraf
C) Divan-ı İstifa
D) Divan-ı Arz

1. OTURUM

(133) TARİH – 3

1. Osmanlı Devleti'nin Haçlılara karşı yaptığı ilk savaş aşağıdakilerden hangisidir?

- A) Sırpsındığı
- B) Çirmen
- C) Koyunhisar
- D) Varna

2. Niğbolu Zaferi sonucunda Halife, Yıldırım Bayezit'e Sultan-ı İklim-i Rum unvanı verdi.

Aşağıdakilerden hangisi bu durumun sonucudur?

- A) Osmanlı Devleti ilk kez Rumeli'ye geçmiştir.
- B) Halifelik Yıldırım Bayezit'e verilmiştir.
- C) Karesioğulları Beyliği Osmanlı Devleti'ne katılmıştır.
- D) Osmanlı Devleti'nin İslam dünyasındaki saygınlığı artmıştır.

3. Fetret Devri'ne son veren, devleti dağılmaktan kurtardığı için tarihe "Osmanlı Devleti'nin ikinci kurucusu" unvanı ile geçen Osmanlı padişahı kimdir?

- A) I. Murat
- B) I. Mehmet
- C) II. Mehmet
- D) II. Murat

4. Aşağıdakilerden hangisi Osmanlı ordu teşkilatı içerisinde yer alan kapıkulu askerlerinden değildir?

- A) Tımarlı Sipahiler
- B) Acemi Ocağı
- C) Yeniçeriler
- D) Cebeci Ocağı

5. Aşağıdakilerden hangisi İstanbul'un fethinin "Dünya Tarihi" ile ilgili sonuçlarından biri değildir?

- A) Orta Çağ'ın sonu Yeni Çağ'ın başlangıcı olarak kabul edilmesi
- B) Ateşli silahların surlar üzerindeki etkisinin anlaşılması ve böylece Avrupa'da derebeyliklerin yıkılış sürecine girmesi
- C) II. Mehmet'in Fatih unvanını alması
- D) Bizanslı bilim insanlarının İstanbul'dan ayrılıp İtalya'ya göç ederek Rönesans'ın başlamasına etkili olması

6. XV. yüzyıl ortalarına kadar Divana padişahlar başkanlık ederken Fatih Dönemi'nden itibaren bu görev kime bırakılmıştır?

- A) Nişancıya
- B) Şeyhülislam
- C) Veziriazama
- D) Kazaskere

7. Fatih Dönemi'nde aşağıdaki yerlerden hangisinin alınmasıyla Bizans'ı yeniden diriltme umutları engellenmiştir?

- A) Amasra
- B) Eflak
- C) Kırım
- D) Trabzon

8. Aşağıdakilerden hangisi Osmanlı Devleti'nde sancakların birleşmesiyle meydana gelen en büyük yönetim birimidir?

- A) Eyalet
- B) Kaza
- C) Sancak
- D) Köy

9. Osmanlı Devleti'nde "ilmiye" sınıfının Divandaki temsilcileri aşağıdaki devlet görevlilerinden hangileridir?

- A) Veziriazam ve Kaptanıderya
- B) Şeyhülislam ve Kazaskerler
- C) Defterdarlar ve Nişancı
- D) Kubbealtı vezirleri

10. XV. ve XVI. yüzyıllarda Batı Avrupa'da edebiyat, güzel sanatlar ve bilim alanlarında yaşanan önemli gelişmenin adı nedir?

- A) Rönesans
- B) Feodalite
- C) Engizisyon
- D) Reform

11. XV. ve XVI. yüzyıllarda İpek ve Baharat Yollarını denetim altına alan Osmanlı Devleti, beklediği ekonomik kazancı elde edememiştir.

Bu durumun temel nedeni aşağıdakilerden hangisidir?

- A) Ticarete yeterince önem verilmesi
- B) Azınlıkların ticarete hâkim olması
- C) Coğrafi keşiflerle yeni ticaret yollarının bulunması
- D) Gümrüklerde yüksek vergi uygulanması

12. Reform hareketlerinden Osmanlı Devleti'nde yaşayan Hristiyanların olumsuz etkilenmemelerinin nedeni aşağıdakilerden hangisidir?

- A) Osmanlı Devleti'nin askerî tedbirler alması
- B) Din adamlarının halka baskı uygulaması
- C) Avrupa devletlerine hoş görünmek istenmesi
- D) Osmanlı'nın gayrimüslim halka hak ve özgürlükler tanıması

13. Rodos Adası'nın fethi aşağıdaki hangi Osmanlı padişahı zamanında gerçekleşmiştir?

- A) I. Mehmet
- B) Kanuni Sultan Süleyman
- C) II. Selim
- D) I. Selim

14. Aşağıdakilerden hangisi Osmanlı Devleti zamanında yaşamış tasavvuf önderlerinden değildir?

- A) Hacı Bayram Veli
- B) Akşemsettin
- C) Ahmet Yesevi
- D) Pir Sultan Abdal

15. 1538 yılında Osmanlı Devleti'nde baş mimarlığa kadar yükselen ve kendine özgü bir üslup geliştirerek üç yüzün üzerinde eser veren, Türk mimarisini doruk noktasına ulaştıran mimar aşağıdakilerden hangisidir?

- A) Piri Reis
- B) Mimar Sinan
- C) Mimar Kemalettin
- D) Sedefkâr Mehmet Ağa

16. Mısır'ın Süveyş bölgesinde bir kanal açıp Kızıldeniz'i Akdeniz'e bağlamak isteyen Osmanlı devlet yöneticisi aşağıdakilerden hangisidir?

- A) Sokullu Mehmet Paşa
- B) Çandarlı Halil Paşa
- C) Lala Mustafa Paşa
- D) Turgut Reis

17. Kanuni Dönemi'nde Avrupa'da kurulacak olan Haçlı ittifaklarından koparmak için aşağıdaki devletlerden hangisine kapitülasyonlar verilmiştir?

- A) Almanya
- B) İtalya
- C) Rusya
- D) Fransa

1. OTURUM

18. Fatih Sultan Mehmet zamanında Ayasofya müderrisliğine atanan, matematik ve astronomi ilgili kitapları bulunan bilim adamı aşağıdakilerden hangisidir?

- A) Piri Reis
- B) Ali Kuşçu
- C) Âşık Paşazade
- D) Takiyüddin Mehmet

19. Aşağıdaki savaşlardan hangisi ile Bulgaristan Osmanlı topraklarına katılmıştır?

- A) Niğbolu
- B) Varna
- C) II. Kosova
- D) Otlukbeli

20. Aşağıdakilerden hangisi Osmanlı toplumunda askerî olarak adlandırılan yönetici sınıfında yer almaz?

- A) İlimiye
- B) Kalemîye
- C) Reaya
- D) Seyfiye

(134) TARİH – 4

1. Aşağıdaki fikir akımlarından hangisi imparatorlukların parçalanmasında etkili olmuştur?

- A) Hümanizm
- B) Merkantilizm
- C) Milliyetçilik
- D) Rönesans

2. İngiltere, Amerika'nın bağımsızlığını aşağıdaki hangi antlaşmayla kabul etmiştir?

- A) Versay
- B) Londra
- C) Paris
- D) Berlin

3. Aşağıdaki gelişmelerden hangisi Yeni Çağ'ın sonu Yakın Çağ'ın başlangıcı olarak kabul edilmiştir?

- A) Rönesans Hareketleri
- B) İstanbul'un fethi
- C) Sanayi İnkılabı
- D) Fransız İhtilali

4. Aşağıdakilerden hangisi Lale Devri yeniliklerinden biri değildir?

- A) Kâğıt fabrikasının açılması
- B) Enderun Mektebinin açılması
- C) İlk defa çiçek aşısının uygulanması
- D) İlk Türk matbaasının açılması

5. Osmanlı Devleti'nde yenilik hareketlerinin gerçekleştiği Lale Devri aşağıdaki hangi olayla son bulmuştur?

- A) 31 Mart Olayı
- B) Sırp İsyanı
- C) Patrona Halil İsyanı
- D) Kabakçı Mustafa İsyanı

6. Aşağıdakilerden hangisinin sonucunda Avrupa'da köylere şehirlere göç yaşanmış, buharlı gemilerin ve trenlerin kullanılmaya başlanması ile ticaret gelişmiştir?

- A) Fransız İhtilali'nin
- B) Haçlı Seferlerinin
- C) Rönesans Hareketlerinin
- D) Sanayi İnkılabı'nın

7. Avrupa başkentlerine ilk kez daimi elçiliklerin açılması aşağıdaki hangi Osmanlı padişahı döneminde gerçekleşmiştir?

- A) III. Selim
- B) I. Ahmet
- C) II. Mahmut
- D) IV. Murat

8. Osmanlı Devleti'nde XVIII. yüzyılda Mühendishane-i Bahri Hümayun ve Mühendishane-i Berr-i Hümayun gibi okulların açılması, hangi alandaki ıslahatlara örnektir?

- A) Mali
- B) Askerî
- C) Hukuk
- D) Siyasi

9. Sened-i İttifak aşağıdaki padişahlardan hangisi döneminde imzalanmıştır?

- A) III. Ahmet
- B) III. Selim
- C) II. Mahmut
- D) I. Abdülhamit

10. Aşağıdakilerden hangisi Osmanlı Devleti'nde ilk bağımsızlık kazanan azınlık toplumdur?

- A) Sırp
- B) Yunanlılar
- C) Bulgarlar
- D) Ermeniler

11. II. Abdülhamit aşağıdakilerden hangisine dayanarak Mebusan Meclisini kapatmıştır?

- A) Mecelle
- B) Tanzimat Fermanı
- C) Kanunuesasi
- D) Sened-i İttifak

12. Trablusgarp Savaşı aşağıdaki hangi antlaşma ile sona ermiştir?

- A) Uşi
- B) Atina
- C) Berlin
- D) Bükreş

13. Aşağıdaki devletlerden hangisi I. Dünya Savaşı öncesi kurulan Üçlü İttifak devletleri arasında yer almamıştır?

- A) Almanya
- B) Fransa
- C) İtalya
- D) Avusturya-Macaristan İmparatorluğu

14. Avrupa uygarlığını üstün tutan ve onun benimsenmesini savunan düşünce akımı aşağıdakilerden hangisidir?

- A) Osmanlılık
- B) Türkçülük
- C) Batıcılık
- D) İslamcılık

15. Aşağıdakilerden hangisi, Osmanlı Devleti'nin I. Dünya Savaşı'na girmesinin sebeplerinden biri değildir?

- A) Balkan Savaşlarında kaybedilen toprakları geri alabilmek
- B) Kapitülasyonları kaldırmak
- C) Kafkaslarda toprak elde ederek Türk Dünyası ile birleşmek
- D) İngiltere ve Fransa ile aynı grupta yer alabilmek

16. Osmanlı Devleti I. Dünya Savaşı'nda Irak Cephesi'nde aşağıdaki ülkelerden hangisine karşı mücadele etmiştir?

- A) Rusya
- B) Fransa
- C) İtalya
- D) İngiltere

17. Mustafa Kemal ve Türk askerinin kahramanca mücadelesiyile; Anafartalar, Conkbayırı ve Arıburnu'nda büyük zaferler kazandığı cephe aşağıdakilerden hangisidir?

- A) Çanakkale
- B) Kafkas
- C) Yemen
- D) Irak

1. OTURUM

18. Aşağıdaki eserlerden hangisi XIX. yüzyılda Osmanlı Devleti'nde Avrupa mimari üslubu örnek alınarak yapılmıştır?

- A) Çırağan Sarayı
- B) Süleymaniye Camii
- C) Bursa Ulu Camii
- D) Topkapı Sarayı

19. I. Dünya Savaşı sonunda sağlanan barışı korumak amacıyla aşağıdakilerden hangisi kurulmuştur?

- A) NATO
- B) Sadabat Paketi
- C) Milletler Cemiyeti
- D) Briand - Kellogg Paketi

20. Osmanlı'da ilk resim eğitimi veren okul olan Sanayiinefise Mektebini açan ünlü Türk ressam aşağıdakilerden hangisidir?

- A) Fatma Aliye
- B) Osman Hamdi Bey
- C) Agâh Efendi
- D) Şinasi

(136) SEÇMELİ TARİH – 2

1. İslamiyet öncesi Arap Yarımadası'nın durumu için aşağıdakilerden hangisi söylenemez?

- A) Kadınlar erkeklerle eşit haklara sahiptir.
- B) Kan davaları ve sınır anlaşmazlıkları yaygındır.
- C) Siyasi birliği sağlayabilen güçlü bir devlet yoktur.
- D) Araplar arasında putperestlik inancı yaygındır.

2. Kuran'ı Kerim'i ilk defa kitap haline getiren halife aşağıdakilerden hangisidir?

- A) Hz. Ali
- B) Hz. Ebubekir
- C) Hz. Ömer
- D) Hz. Osman

3. Aşağıdakilerden hangisi Türklerin İslamiyet'i kabul etmelerinde etkili olmamıştır?

- A) Emeviler'in Arap milliyetçiliğine dayalı politika izlemeleri
- B) İslamiyet'in tek Allah inancını benimsemesi
- C) İslamiyet'in gaza ve cihada önem vermesi
- D) İslamiyet'in farklı inançlara hoşgörülü olması

4. Müslümanlar ile Mekkeli müşrikler arasında yapılan ilk savaş aşağıdakilerden hangisidir?

- A) Uhut
- B) Talas
- C) Hendek
- D) Bedir

5. Orta Asya'da kurulan ilk Müslüman Türk devleti, aşağıdakilerden hangisidir?

- A) Gazneliler
- B) Tolunoğulları
- C) Karahanlılar
- D) Hunlar

6. Kaşgarlı Mahmut'un Türkçenin Arapça kadar zengin bir dil olduğunu göstermek için yazdığı eser aşağıdakilerden hangisidir?

- A) Kutadgu Bilig
- B) Divan-ı Hikmet
- C) Divan-ı Lügati't -Türk
- D) İhsa'ül-Ulum

7. Gazneli Mahmut 400'e yakın şair ve bilim insanını sarayında toplamış, maddi ve manevi her türlü imkânı sağlamıştır.

Buna göre Gazneli Mahmut'un devlet adamlığı ile ilgili aşağıdakilerden hangisi söylenebilir?

- A) Zevk ve eğlenceye düşkün olduğu
- B) Gösterişli bir yaşam sürdüğü
- C) Halifeliği ele geçirmek için çaba gösterdiği
- D) Bilime ve sanatçılara önem verdiği

8. Aşağıdakilerden hangisi Malazgirt Savaşı'nın sonuçlarından değildir?

- A) Haçlı Seferlerine zemin hazırlamıştır.
- B) Bizans Devleti'ne son verilmiştir.
- C) Türklerin batıya ilerleyişi hızlanmıştır.
- D) Bizans İmparatoru Romen Diyojen esir alınmıştır.

9. 1040 yılında toplanan kurultay kararlarına göre, Tuğrul Bey devletin başına geçti. Tuğrul Bey yönetimi ele aldıktan sonra, adına hutbe okutup para bastırdı.

Tuğrul Bey'in kendi adına para bastırıp, hutbe okutmasının anlamı aşağıdakilerden hangisidir?

- A) Hükümdar olduğunu ilan etmek
- B) Ülkesinin zenginliğini göstermek
- C) Halkına moral vermek
- D) Halifeliğin gücünden faydalanmak

10. Büyük Selçuklu Devleti'nde görülen;

- I. Abbasi halifesini düşmanlarına karşı koruması
- II. Ülke topraklarının hanedanın ortak malı sayılması
- III. İslamiyet'in yayılması için çalışılması

gelişmelerinden hangileri, Türklerin İslam dünyasındaki saygınlığını artırmıştır?

- A) Yalnız I.
- B) Yalnız II.
- C) I ve III.
- D) II ve III.

11. Türk İslam devletlerinde uygulanan el yazması kitap ve levhaların altın tozu ve boya kullanılarak çiçek ve nakışlarla süslediği sanat dalı aşağıdakilerden hangisidir?

- A) Fresko
- B) Hat
- C) Minyatür
- D) Tezhip

12. Aşağıdaki devletlerden hangisi Timuruların saltanatına son vermiştir?

- A) Karahanlılar
- B) Özbekler
- C) Selçuklular
- D) Gazneliler

13. I. Karahanlılardan itibaren hükümdarlar "Sultan" unvanı kullanmaya başlamıştır.
II. Ülke hanedanın ortak malı sayılmıştır.
III. Hutbe okutmak, para basmak hükümdarlık sembollerindedir.
IV. Ülkenin bir bölümünün idare eden hanedan üyelerine "tıraz" denilmiştir.

Türk İslam devletlerindeki devlet yönetimi ile ilgili yukarıda verilen bilgilerden hangileri doğrudur?

- A) I ve II.
- B) I ve III.
- C) II ve III.
- D) III ve IV.

14. Aşağıdakilerden hangisi Türk İslam devletlerinde devlete ait bayrağı taşıyan görevliye verilen isimdir?

- A) Emir-i ahur
- B) Emir-i candar
- C) Emir-i silah
- D) Emir-i alem

1. OTURUM

(141) T.C. İNK. T. ATATÜRK – 1

15. Türk-İslam devletlerinde Müslüman olmayanlardan askerlik yapmadıkları için alınan vergi aşağıdakilerden hangisidir?

- A) Cizye B) Öşür
C) İhta D) Has

16. Türklerin İslamiyet'i kabulünden sonra yazılan ilk İslami Türkçe eser aşağıdakilerden hangisidir?

- A) Divan-ı Lügat-it-Türk
B) Kutadgu Bilig
C) Atabetü'l Hakayık
D) Divan-ı Hikmet

17. Uluğ Bey'in öğrencisidir. Matematik ve astronomi alanında eserler yazmıştır. İstanbul'un ilk enlem ve boylamlarını hesaplamıştır. "Risâletü'l-Fethiyye", "Meserretü'l Kulûb" önemli eserleri arasındadır.

Yukarıda verilen bilgiler aşağıdaki bilgilerden hangisine aittir?

- A) Ali Kuşçu
B) Abdulkadir Meragi
C) Endicanlı Yusuf
D) Kemalettin Bihzad

18. Memlûklerde devletin yazışmalarını yürüten birim aşağıdakilerden hangisidir?

- A) Nazır-ı Ceşş
B) Dîvân-ı Has
C) Dîvân-ı İnşâ
D) Amir-i Ahur

19. Aşağıdakilerden hangisi Moğol İmparatorluğu'nun zayıflamasıyla merkezden ayrılarak kurulan devletlerden biri değildir?

- A) Kubilay Hanlığı
B) Altın Orda Devleti
C) İlhanlılar
D) Harzemşahlr

20. Kudüs'ü Hittin Zaferi ile Haçlılardan alan devlet adamı aşağıdakilerden hangisidir?

- A) Babür Şah
B) Selahaddin Eyyubi
C) Sultan Baybars
D) Cengiz Han

1. Mustafa Kemal, Büyük Millet Meclisi açıldıktan sonra meclise yeni seçileceklerle birlikte Mebusan Meclisinden Ankara'ya gelebilen milletvekillerinin de katılabileceğini belirtmiştir.

Buna göre Mustafa Kemal ile ilgili;

- I. Millet iradesine saygılı olduğu,
II. Birlik ve beraberliğe önem verdiği,
III. Meclisin yasama ve yürütme yetkilerini devraldığı

durumlarından hangilerine ulaşılabilir?

- A) Yalnız I B) I ve II.
C) II ve III. D) I, II ve III.

2. İtilaf Devletleri I. Dünya Savaşı'nda Osmanlı Devleti'ni kendi yanlarına almadıkları gibi savaşta tarafsız kalmalarını istemişlerdir. Hatta Osmanlı Devleti'ni olayların dışında kalması için her türlü planlamaları yapmışlardır.

Buna göre İtilaf Devletleri Osmanlı Devleti'ne karşı nasıl bir politika izlemişlerdir?

- A) Osmanlı Devleti'ni yalnızlaştırmaya çalışmışlardır.
B) Osmanlı Devleti'ne askerî yardımları kesmişlerdir.
C) Osmanlı Devleti'ni kendi yanlarına çekmek istemişlerdir.
D) Halifeliğin gücünden faydalanmaya çalışmışlardır.

3. Aşağıdakilerden hangisi azınlıklar tarafından kurulan zararlı cemiyetlerden birisidir?

- A) Trabzon Muhafaza-i Hukuk-u Milliye Cemiyeti
B) Millî Kongre Cemiyeti
C) Kilikyalılar Cemiyeti
D) Taşnak-Sütyun Cemiyeti

4. Rusya'nın, Birinci Dünya Savaşı öncesinde Balkanlardaki Slavları kendi yönetimi altında birleştirme politikası aşağıdakilerden hangisidir?

- A) İslamcılık
B) Turancılık
C) Panславizm
D) Batıcılık

5. I. Dünya Savaşı'nda İngiltere ve Fransa kuvvetlerinin Osmanlı ordusuna yenilmeleri üzerine yardım alamayan Rusya'da Çarlık rejiminin yıkılmasına ve I. Dünya Savaşı'nın uzamasına sebep olan cephe aşağıdakilerden hangisidir?

- A) Çanakkale B) Filistin
C) Süveyş D) Kafkas

6. Çukurova Bölgesi'nin Fransızlar ve Ermeniler tarafından işgal edilmesini önlemek amacıyla İstanbul'da kurulan millî cemiyet aşağıdakilerden hangisidir?

- A) Teali İslam Cemiyeti
B) İngiliz Muhipleri Cemiyeti
C) Kilikyalılar Cemiyeti
D) Hürriyet ve İtilaf Fırkası

7. TBMM 19 Ağustos 1920 tarihli toplantısında Sevr Antlaşması'nı imzalayanları vatan haini olarak ilan etmiştir.

TBMM'nin bu kararı almasında Sevr Antlaşması'nın hangi özelliği etkili olmuştur?

- A) Maddelerin açık ve net olmaması
B) Meclis tarafından onaylanmamış olması
C) Bağımsızlığımıza ve millî varlığımıza aykırı olması
D) Azınlıkların haklarını gözetmiş olması

8. Mustafa Kemal, Aralık 1911'de Trablusgarp'a gönüllü olarak gitti ve İtalyanlara karşı yerli halkı örgütleyerek mücadele etti.

Bu durum Mustafa Kemal'in;

- I. Liderlik
II. Vatansızlık
III. Açık sözlülüğü

kişisel özelliklerinden hangileri ile ilgilidir?

- A) Yalnız I. B) I ve II.
C) II ve III. D) I, II ve III.

9. Mondros Ateşkes Antlaşması'nın uygulamaya konmasıyla Türk milleti işgallere karşı direnişe geçmiştir.

Aşağıdakilerden hangisi Türk milletinin işgallere karşı direnişe geçmesinde etkili olmamıştır?

- A) Osmanlı ordusunun terhis edilmesi
B) Osmanlı Devleti'nin duruma sessiz kalması
C) Ülkenin farklı bölgelerinde işgallerin olması
D) Tevhiditedrisat Kanunu'nun çıkarılması

1. OTURUM

10. Sivas Kongresi'nde millî cemiyetlerin Anadolu ve Rumeli Müdafaa-i Hukuk Cemiyeti adıyla tek çatı altında toplanmasının temel amacı aşağıdakilerden hangisidir?

- A) Bölgesel kurtuluşu sağlamak
- B) Osmanlı Devleti'nin desteğini sağlamak
- C) Millî Mücadele'yi tek bir merkezden yönetmek
- D) Saltanatı kaldırmak

11. Sovyetler Birliği ile I. İnönü Savaşı'ndan sonra imzalanan antlaşma aşağıdakilerden hangisidir?

- A) Gümrü Antlaşması
- B) Ankara Antlaşması
- C) Moskova Antlaşması
- D) Lozan Antlaşması

12. İtalyanlar, işgal ettikleri Güneybatı Anadolu'dan kuvvetlerini çekmeye hangi savaştan sonra başlamıştır?

- A) I. İnönü
- B) II. İnönü
- C) Sakarya
- D) Büyük Taarruz

13. Fransa ile Türkiye Büyük Millet Meclisi Hükümeti arasındaki savaşı sonlandıran antlaşma, aşağıdakilerden hangisidir?

- A) Sevr Antlaşması
- B) Ankara Antlaşması
- C) Gümrü Antlaşması
- D) Kars Antlaşması

14. Türkiye Büyük Millet Meclisi Hükümeti'ni tanıyan ilk Müslüman devlet aşağıdakilerden hangisidir?

- A) Afganistan
- B) Pakistan
- C) İran
- D) Irak

15. Aşağıdaki devletlerden hangisi I. Balkan Savaşı'na katılan devletlerden biri değildir?

- A) Sırbistan
- B) Bulgaristan
- C) Yunanistan
- D) Macaristan

16. Amasya Görüşmelerinde Temsil Heyeti ile İstanbul Hükümeti adına görüşme yapan aşağıdakilerden hangisidir?

- A) Damat Ferit Paşa
- B) Salih Paşa
- C) Tefik Paşa
- D) Cemal Paşa

17. Yeni Türk Devleti'nin varlığı ve bağımsızlığının tüm dünya devletleri tarafından kabul edildiğini gösteren antlaşma aşağıdakilerden hangisidir?

- A) Moskova Antlaşması
- B) Sevr Antlaşması
- C) Ankara Antlaşması
- D) Lozan Antlaşması

18. Mustafa Kemal Paşa'ya "mareşal" rütbesi ve "gazilik" unvanı hangi savaştan sonra verilmiştir?

- A) Sakarya Savaşı
- B) I. İnönü Savaşı
- C) II. İnönü Savaşı
- D) Başkomutanlık Meydan Savaşı

19. Kurtuluş Savaşı'nın askerî safhasını sona erdiren antlaşma aşağıdakilerden hangisidir?

- A) Mondros Ateşkes Antlaşması
- B) Ankara Antlaşması
- C) Mudanya Ateşkes Antlaşması
- D) Gümrü Antlaşması

20. Temsil Heyetinin ilk defa seçildiği kongre aşağıdakilerden hangisidir?

- A) Sivas Kongresi
- B) Alaşehir Kongresi
- C) Balıkesir Kongresi
- D) Erzurum Kongresi

(151) COĞRAFYA – 1

1. Beşeri ve ekonomik coğrafya insanın doğal sistemler içindeki faaliyetlerini inceler.

Buna göre aşağıdakilerden hangisi beşeri ve ekonomik coğrafyanın alt bilim alanlarından biridir?

- A) Toprak Coğrafyası
- B) Hidrografya
- C) Jeomorfoloji
- D) Yerleşme Coğrafyası

2. Aşağıdakilerden hangisi insanın doğa üzerindeki etkisine örnektir?

- A) Çöl bölgelerinde ulaşım için deve kullanılması
- B) Enerji ihtiyacını karşılamak için barajlar yapılması
- C) Soğuk iklim bölgelerinde kalın ve kürklü kıyafetler tercih edilmesi
- D) Kutuplar çevresinde yerleşim alanlarının sınırlı olması

3. Hava olaylarının gerçekleştiği doğal ortam aşağıdakilerden hangisidir?

- A) Atmosfer
- B) Litosfer
- C) Hidrosfer
- D) Biyosfer

4. Karadeniz kıyı kuşağı boyunca uzanan dağlar başta ulaşım olmak üzere ekonomik faaliyetleri olumsuz etkilemektedir. Bölgede havalimanı, tünel ve köprüler inşa edilmiş, dağların olumsuz etkileri azaltılmıştır.

Yukarıdaki metinde geçen altı çizili kelimelerden hangisi doğal unsurdur?

- A) dağlar
- B) tünel
- C) köprüler
- D) havalimanı

5. Doğu-batı doğrultusunda birbirine uzak olan iller arasında yerel saat farkı fazla olur.

Buna göre aşağıdaki illerden hangisi ikisi arasında yerel saat farkı daha fazladır?

- A) Sinop - Mersin
- B) Mersin - İzmir
- C) İzmir - Van
- D) Van - Sinop

6. Aşağıdakilerden hangisi paraleller ile ilgili bir özelliktir?

- A) Kutuplara doğru gidildikçe boyları kısalır.
- B) Aralarındaki zaman farkı her yerde 4 dakikadır.
- C) Kuzey kutbundan güney kutbuna doğru uzanırlar.
- D) Aralarındaki uzaklık ekvatorдан kutuplara gidildikçe daralır.

7. Dünya; batıdan doğuya döndüğü için güneş, doğudaki bir merkezde batıdakine göre daha erken doğar, erken batar.

Buna göre aşağıdaki boylamlardan hangisi üzerinde yer alan bir merkezde güneş daha erken doğar?

- A) 35° doğu
- B) 45° batı
- C) 75° doğu
- D) 90° batı

8. Dünya'nın küresel şekli nedeniyle bir yerin hatasız olarak düzlem üzerine aktarılması çok zordur. Olabilecek hataları en aza indirebilmek için bazı yöntemler geliştirilmiştir.

Bu yöntemlere ne ad verilmektedir?

- A) İzohips
- B) Lejant
- C) Kabartma
- D) Projeksiyon

1. OTURUM

9. Haritanın ölçeğinin paydasındaki sayı büyüdükçe, ayrıntı gösterme oranı azalır.

Buna göre aşağıdaki ölçeklerle çizilen Türkiye fiziki haritalarından hangisinin ayrıntısı daha azdır?

- A) 1/900000 B) 1/1200000
C) 1/1350000 D) 1/2500000

10. İki tepe arasında kalan alçak yerlere ne ad verilir?

- A) Yamaç B) Boyun
C) Doruk D) Ekuidistans

11. Fiziki haritalar yeryüzü şekillerinin yükselti değerlerinin renklendirme yöntemiyle gösterildiği haritalardır.

Buna göre bir Türkiye fiziki haritasında aşağıdakilerden hangisine ulaşılamaz?

- A) Göllere
B) Dağlara
C) İllerin sınırlarına
D) Düzlük alanlara

12. 21 Haziran tarihinde Türkiye'de aşağıdakilerden hangisi yaşanır?

- A) En uzun gece
B) Gece gündüz eşitliği
C) En uzun gölge boyu
D) Yaz mevsimi başlangıcı

13. Aşağıdaki gezegenlerden hangisi Dünya'ya daha yakındır?

- A) Uranüs B) Mars
C) Neptün D) Satürn

14. Aşağıdakilerden hangisi Dünya'nın yıllık hareketi sonucunda gerçekleşir?

- A) Mevsimlerin oluşması
B) Meltem rüzgârlarının oluşması
C) Günlük sıcaklık farkının oluşması
D) Dinamik basınç kuşaklarının oluşması

15. Aşağıdakilerden hangisi iklimin doğal çevre ve canlı yaşamı üzerindeki etkisine örnek gösterilemez?

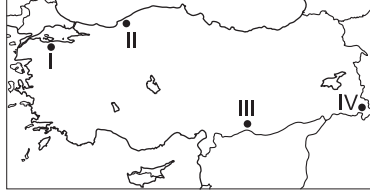
- A) Kurak bölgelerde kısa boylu ot topluluklarının görülmesi
B) Fay hatlarının bulunduğu bölgelerde deprem olması
C) Yağışlı ve sıcak bölgelerde ağaçların daha kolay yetişebilmesi
D) Nemli ve sıcak bölgelerde kayaların kimyasal çözünmeye uğraması

16. • Amazon ve Kongo havzaları ile Güneydoğu Asya Adaları'nda etkilidir.
• Yıl boyunca yüksek sıcaklık ve düzenli yağış görülür.
• Tropikal yağmur ormanları doğal bitki örtüsünü oluşturur.

Yukarıda hangi iklim tipinin özellikleri verilmiştir?

- A) Ekvatorial B) Muson
C) Savan D) Tundra

17. Yıl içinde bulutluluk oranı yüksek olan yerlerde güneşlenme süresi kısa olur.



Buna göre harita üzerinde numaralandırılmış yerlerin hangisinde güneşlenme süresi diğerlerine göre daha kısadır?

- A) I B) II C) III D) IV

18. Genellikle bahar mevsimlerinde görülen, nemli havanın soğuk zeminler üzerinde yoğunlaşmasıyla oluşan su damlacıklarına ne denir?

- A) Kırağı B) Çiy
C) Dolu D) Yağmur

19. Basınç merkezleri arasındaki fark arttıkça rüzgârın hızı da artar.

Merkezler	Basınç değeri (milibar)
K	1020
L	1030
M	1016
N	1014

Buna göre tabloda verilen K, L, M ve N basınç merkezlerinden hangisi arasında oluşacak rüzgârın daha hızlı esmesi beklenir?

- A) K ve M B) L ve K
C) L ve N D) M ve N

20. Akdeniz ikliminin görüldüğü yerlerde yazlar sıcak ve kurak, kışlar ılık ve yağışlı geçer. Bu yerlerde kar yağışı pek görülmez.

Buna göre aşağıdaki illerin hangisinde Akdeniz iklimi özellikleri görülmektedir?

- A) Edirne B) Kırklareli
C) Malatya D) İzmir

(152) COĞRAFYA – 2

1. İlk yerleşmeler insanların çeşitli ihtiyaçlarından ortaya çıkmıştır.
Aşağıdakilerden hangisi bu ihtiyaçlardan biri değildir?

- A) Ürünlerini saklama ve depolama
B) Enerji üretim bölgelerine yakın olma
C) İklimin olumsuz etkilerinden korunma
D) Yabani hayvanlara karşı güvenliğini sağlama

2. Aşağıdakilerden hangisi yerleşmeyi etkileyen beşeri bir faktördür?

- A) İklim B) Yer şekilleri
C) Tarım D) Su kaynakları

3. I. Mağara
II. Ağaç kovuğu
III. Kerpiç evler

Yukarıdakilerden hangileri insanların yerleşik hayata geçmeden önce kullandıkları barınak çeşitlerindendir?

- A) Yalnız I. B) Yalnız II.
C) I ve II. D) II ve III.

4. Aşağıdakilerden hangisi yerleşmelerin seyrek olduğu yerlerden biri değildir?

- A) Batı Avrupa B) Kuzey Afrika
C) Sibiryaya D) Grönland

5. Kutup noktaları ve çevreleri için aşağıdakilerden hangisi söylenebilir?

- A) Sıcaklıklar yıl boyu 0 °C nin altındadır.
B) Tatlı su kaynaklarının yetersiz olduğu yerlerdir.
C) Toprak kalın buz örtüsü ile kaplı olduğundan bitki örtüsü yoktur.
D) Bazı araştırma üsleri dışında yerleşimin olmadığı yerlerdir.

6. Amazon Nehri çevresinin az nüfuslu olmasında aşağıdakilerden hangisi etkili olmuştur?

- A) Engebeli arazi yapısı
B) Düşük sıcaklıklar
C) Kuraklık
D) Gür ormanlar

1. OTURUM

7. • Genel olarak nüfusu 2.000 ile 10.000 arası olan yerlerdir.
• Tarım ve hayvancılığın yanında küçük ölçekli ticarete yapılır.
• Belediye hizmetleri verilmektedir.
Yukarıda verilen özelliklerin tamamı hangi yerleşim tipine aittir?

A) Kasaba B) Köy
C) Yayla D) Şehir

8. **Aşağıdakilerden hangisi işlevine göre şehir sınıflandırması değildir?**

A) Turizm şehri
B) Ticaret şehri
C) Metropolitan şehir
D) Maden şehri

9. **Aşağıdakilerden hangisi sanayi şehirlerinde gözlemlenen bir durumdur?**

A) Enerji tüketimi yüksektir.
B) İşsiz nüfus miktarı fazladır.
C) Ticaret hayatı geri kalmıştır.
D) Ulaşım sistemleri yetersizdir.

10. **Bir yerleşim biriminin "ticaret şehri" olarak nitelendirilmesi için;**

I. ortalama yükseltisinin düşük olması,
II. ülke sınırına yakın yerde olması,
III. önemli ulaşım yerlerinin üstünde olması,
IV. ekonomik değeri yüksek ürünlerin üretilip tüketilmesi

özelliklerinden hangisine sahip olmalıdır?

A) Yalnız III. B) I ve II.
C) III ve IV. D) II, III ve IV.

11. **Aşağıdakilerden hangisi köyden küçük devamlı yerleşmelerden biridir?**

A) Çiftlik B) Yayla
C) Ağıl D) Dalyan

12. **Türkiye'de Karadeniz İklim Bölgesi'nde, Dünya'da ise Ekvatorial ve Muson İklim Bölgeleri'nin özellikle kırsal alanlarında yaygın olan mesken tipi aşağıdakilerden hangisidir?**

A) Taş B) Betonarme
C) Kerpiç D) Ahşap

13. **Ülkemizin idari bir birimi olan "il" için aşağıda verilen bilgilerden hangisi yanlıştır?**

A) İdari birimlerin en büyüğüdür.
B) Ülkemizde şu anki sayısı 81 adettir.
C) İllerin sınırları içinde sadece bir şehir bulunur.
D) Genel yönetimden sorumlu devlet memuru validir.

14. **Aşağıdaki Neolitik döneme ait yerleşmelerden hangisi Şanlıurfa ilinde yer almaktadır?**

A) Hacılar B) Göbeklitepe
C) Çatalhöyük D) Aşıklıhöyük

15. **Dünya'nın farklı bölge türlerine ayrılmasının temel sebebi aşağıdakilerden hangisidir?**

A) Dünya nüfusunun artması
B) Yeryüzünün doğal ve beşeri çeşitliliği
C) Teknoloji ve sanayinin sürekli ilerlemesi
D) Dünya'nın paralel ve meridyenlerle bölünmesi

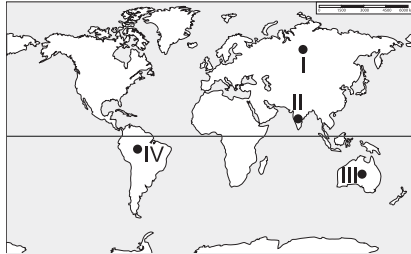
16. **Aşağıdaki illerin hangisi turizm bölgesi olarak kabul edilebilir?**

A) Antalya B) Uşak
C) Yozgat D) Batman

17. **İklim tipi ölçüt alınarak yapılan bir sınıflamada aşağıdaki şehirlerden hangisi Karadeniz İklim Bölgesi dışında kalır?**

A) İzmir B) Trabzon
C) Samsun D) Rize

18.



Yukarıda verilen haritada numaralandırılan yerlerin hangisi nüfus özelliğine göre yapılan sınıflamada yoğun nüfuslu bölge olarak nitelendirilir?

A) I B) II C) III D) IV

19. **Aşağıdakilerden hangisi insanın doğal çevreyi yanlış kullanması sonucunda ortaya çıkamaz?**

A) Asit yağmurları
B) Küresel ısınma
C) Erozyon
D) Volkanizma

20. **Aşağıdakilerden hangisi ışık kirliliğine neden olmaz?**

A) Sanayi kuruluşlarının sayısının artması
B) Yerleşme alanlarının genişlemesi
C) Açık alanların aydınlatılması
D) Radyoaktif maddelerin havaya karışması

(156) SEÇMELİ COĞRAFYA – 2

1. **Aşağıdakilerden hangisi kültürel coğrafyanın inceleme alanına girer?**

A) İsviçre Alplerindeki aşınma şekilleri
B) Alman şehirlerinin mimari özellikleri
C) İngiltere'nin bitki örtüsü ve dağılışı
D) Rusya'da görülen iklimler ve özellikleri

2. **Türk kültürünün hem göçebe hem de yerleşik hayat düzenine ait izler taşımalarının en önemli sebebi aşağıdakilerden hangisidir?**

A) Dünya görüşleri
B) Din ve inanışlar
C) Coğrafi özellikler
D) Ekonomik faaliyetler

3. **Aşağıdakilerden hangisinin yaşanması uluslararası ticaret olumsuz etkilenir?**

A) Petrol üretiminin durması
B) Ham madde fiyatlarının ucuzlaması
C) Taşımacılıkta maliyetlerin düşmesi
D) Ülkelerin ekonomilerinin büyümesi

4. **I. Sağlık sorunlarını giderme
II. Dinlenme ve eğlenme
III. Doğal, tarihi ve kültürel zenginlikleri görme
IV. Eğitim öğretimi yapma**

Muğla ve Antalya'ya gelen Avrupalı bir turistin öncelikle verilenlerden hangilerini amaçladığı söylenebilir?

A) I ve II. B) II ve III.
C) III ve IV. D) II ve IV.

1. OTURUM

5. Serengeti Ulusal Parkı hangi kıtada yer almaktadır?

- A) Güney Amerika
- B) Asya
- C) Avrupa
- D) Afrika

6. Japonya'yla ilgili aşağıda verilen bilgilerden hangisi yanlıştır?

- A) Nüfus yoğunluğu Türkiye'den fazladır.
- B) Tarımsal üretimi kendisine yetmemektedir.
- C) Bütçe açığını turizm gelirleriyle kapatır.
- D) Enerji ve ham madde kaynaklarına fakirdir.

7. Avrupa ülkeleri mezhep çatışmaları, derebeylik mücadeleleri ve savaşlarla uğraşırken İngiltere bunlardan etkilenmemiş; aksine bu siyasi ortamın Sanayi Devrimi'nin ilk önce bu ülkede başlamasına katkısı bile olmuştur.

Avrupa'nın yaşadığı bu olumsuz şartları İngiltere'nin yaşamamasında hangi özelliği daha etkili olmuştur?

- A) Bir ada ülkesi olması
- B) Başka ülkeleri sömürmesi
- C) Bilim adamlarını desteklemesi
- D) Gelişmiş deniz gücünün olması

8. Yüz ölçümü olarak Dünya'nın yedinci, nüfus miktarı bakımından ikinci büyük ülkesi olan Hindistan bu veriler ışığında aşağıdaki ekonomik faaliyetlerden hangisine daha fazla önem vermelidir?

- A) Tarım
- B) Turizm
- C) İnşaat
- D) Hizmet

9. Türkiye hangi uluslararası örgüte üye olmasının sonucunda yaptığı anlaşma gereği Kore'ye asker göndermiştir?

- A) OPEC
- B) IMF
- C) OECD
- D) NATO

10. İlk dönemlerde sadece içme, sulama ve temizlik amaçlı yararlanılan su, günümüzde turizm, sanayi, enerji üretimi alanlarının da vazgeçilemez kaynağı olmuştur.

Bu bilgiye bakarak aşağıdaki yargılardan hangisine ulaşılabilir?

- A) Su hızla tükenen ve yok olan bir kaynaktır.
- B) Su kendi kendini yenileyebilen kaynaktır.
- C) Doğal kaynakların önemi zamana göre değişir.
- D) Bazı doğal kaynaklar önemini zamanla kaybeder.

11. Tarım arazilerinin giderek değerlendirilmesinde aşağıdakilerden hangisinin etkisi daha fazladır?

- A) Sanayinin gelişmesinin
- B) Erozyonun hızlanmasının
- C) Nüfusun sürekli artmasının
- D) Sulu tarımın yaygınlaşmasının

12. Aşağıdaki ülkelerden hangisinin enerji üretiminde nükleer enerjinin payı daha yüksektir?

- A) Fransa
- B) Almanya
- C) Japonya
- D) ABD

13. Sıcak su kaynaklarından yararlanılarak üretilen enerji türüne ne ad verilir?

- A) Hidroelektrik enerji
- B) Jeotermal enerji
- C) Nükleer enerji
- D) Rüzgar enerjisi

14. Gelişmiş ülkeler doğal kaynaklarını kullanırken aşağıdakilerden hangisine daha fazla önem verir?

- A) Ham madde üretimini arttırmaya
- B) Dış satımdan elde edeceği döviz miktarına
- C) Ham maddeyi işleyecek enerji kaynağının teminine
- D) Doğal çevrenin korunmasına yönelik önlemlere

15. Sanayi sektörünün doğup gelişmesinde etkisi olan ilk enerji kaynağı aşağıdakilerden hangisidir?

- A) Petrol
- B) Taş kömürü
- C) Rüzgâr
- D) Doğal gaz

16. Aşağıdakilerden hangisi nükleer santrallerin olumlu yönlerinden biridir?

- A) Üretim esnasında çevreye toz ve kül bırakmaz.
- B) Santralin kurulum maliyeti çok yüksektir.
- C) Enerji kaynağı olarak uranyum ve toryum kullanılır.
- D) Kurulması yüksek teknolojik bilgi ister.

17. Kentlerin yakınlarında yer alan çöp toplama merkezleri hangi enerji türünün üretim alanıdır?

- A) Hidrojen
- B) Hidroelektrik
- C) Biyodizel
- D) Biyomas

18. Taşkın ve sellerin sıklıkla yaşandığı bir akarsu üzerinde tedbir olarak aşağıdakilerden hangisi yapılmaz?

- A) Akarsu vadisinin uygun kesimlerine baraj yapmak.
- B) Tesis ve evleri akarsu vadisinin uzağına yapmak.
- C) Moloz yığınlarını akarsu yataklarına bırakmak.
- D) Akarsu yatağının kenarlarına setler yapmak.

19. Aşağıdaki atıklardan hangisi doğa tarafından daha kolay yok edilir?

- A) Atık piller
- B) Karton kutular
- C) Cam şişeler
- D) Plastik ambalajlar

20. ABD, Fransa, Hollanda gibi gelişmiş ülkelerin tarım faaliyetlerinde öne çıkan özelliği aşağıdakilerden hangisidir?

- A) Modern yöntemlerle ticarete yönelik üretim yapımları
- B) Üretimde insan emeğini yoğun şekilde kullanmaları
- C) İhtiyaçlarını karşılamaya yönelik üretim yapımları
- D) Tarım sektörüne az önem vermeleri

1. OTURUM

(157) SEÇMELİ COĞRAFYA – 3

1. Bir bölgede uzun süreli yaşanan ekstrem sıcaklık veya soğukların ortaya çıkaracağı en olumsuz sonuç aşağıdakilerden hangisidir?

- A) Tarımsal verimliliği düşürmesi
- B) Ulaşım faaliyetlerini aksatması
- C) Ekonomik faaliyetleri aksatması
- D) Toplu canlı ölümlerine sebep olması

2. Büyük (Pasifik) Okyanus'ta gerçekleşen tsunami aşağıdaki ülkelerden hangisinde tahribata neden olur?

- A) Japonya
- B) Fransa
- C) Mısır
- D) Yunanistan

3. Heyelanlar için aşağıdakilerden hangisi söylenemez?

- A) Kütle hareketidir.
- B) Yaygın görülen afetlerdir.
- C) Göl oluşumuna sebep olabilirler.
- D) Yağışın olmadığı arazilerde yaşanırlar.

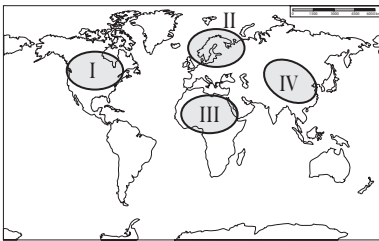
4. Büyük sulama projelerinin yüksek maliyetli yatırımlar olduğu göz önüne alınırsa sulama yapılan bu tarım alanlarında hangi özelliğe sahip ürünlerin yetiştirilmesine daha çok önem verilmesi gerekir?

- A) Az suya ihtiyaç duyan
- B) Yüksek sıcaklığa dayanar
- C) Verimi ve değeri yüksek olan
- D) Devlet tarafından desteklenen

5. Yazıyı ilk kullanan medeniyet aşağıdakilerden hangisidir?

- A) Hint
- B) Sümer
- C) Asur
- D) Hitit

6.



Çin Medeniyeti haritada numaralandırılarak verilen yerlerin hangisinde yer almaktadır?

- A) I
- B) II
- C) III
- D) IV

7. Aşağıdakilerden hangisi Sanayi devrimiyle Avrupa'da gerçekleşen yeni durumlardan biri değildir?

- A) Yeni iş sahaları oluşmuştur.
- B) Sömürge edinme yarışı durmuştur.
- C) Kırsaldan kentlere göç başlamıştır.
- D) İnsanların refah seviyesi artmıştır.

8. Gelecekte Dünya nüfusunda aşağıdakilerin hangisinde artma beklenmektedir?

- A) Yaşlı nüfus oranında
- B) Nüfus artış hızında
- C) Kırsal nüfus miktarında
- D) Tarımda çalışan oranında

9. Aşağıdaki tabloda yıllara göre bazı kıtalarda kişi başına düşen yıllık gelir miktarı dolar (\$) olarak gösterilmiştir.

Kıtalar-Yıllar	1950	2015
Afrika	470 \$	810 \$
Asya	1360 \$	6770 \$
Avrupa	3004 \$	17.470 \$
Kuzey Amerika	10.380 \$	40.830 \$

Tablodaki verilere bakarak aşağıdakilerden hangisi söylenebilir?

- A) En yoksul ülkeler Avrupa'dadır.
- B) Oransal artışın en küçüğü Asya'da olmuştur.
- C) Kuzey Amerika kıtasında gelirler yaklaşık dört kat artmıştır.
- D) Afrika ülkelerinde gelir bin doların üzerindedir.

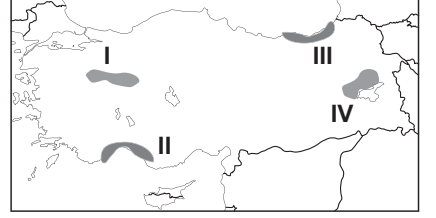
10. Fiziki coğrafya özelliklerine göre yapılan sınıflandırmada Rize, Trabzon ve Artvin illeri hangi bölge içinde değerlendirilemez?

- A) Karadeniz iklim bölgesi
- B) Az yağış alan bölge
- C) Orman bölgesi
- D) Dağlık bölge

11. Aşağıdaki bölgelerden hangisi ekonomik özelliklere göre belirlenmemiştir?

- A) Dağlık bölge
- B) Maden bölgesi
- C) Tarım bölgesi
- D) Turizm bölgesi

12.



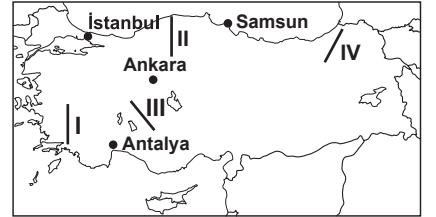
Haritada numaralandırılarak verilen taralı alanlardan hangisinde turizm faaliyetleri daha yaygındır?

- A) I
- B) II
- C) III
- D) IV

13. Üretim merkezleri ile tüketim merkezleri arasında ticaretin gelişmesini aşağıdaki ekonomik faaliyetlerden hangisi daha çok etkiler?

- A) Ulaşım
- B) Madencilik
- C) Turizm
- D) Tarım

14. Engebeli alanlar, karayolu ve demir yolu ulaşımını en fazla zorlaştıran unsurlardır.



Buna göre haritada numaralandırılarak verilen hatlardan hangisi, bu olumsuz durumdan daha az etkilenir?

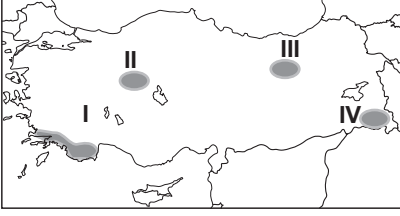
- A) I
- B) II
- C) III
- D) IV

15. Aşağıdakilerden hangisi insanın doğaya müdahalesine örnek gösterilemez?

- A) Nil nehrinin üzerine Aswan Barajı'nın yapılması
- B) Hollanda'nın polderlerle denizden toprak kazanması
- C) Kaliforniya Çölü'nün bir kısmının tarım alanına dönüştürülmesi
- D) Japonya'nın Dünya'nın en büyük ihracatçı ülkeleri sıralamasına girmesi

1. OTURUM

16.



Haritada numaralandırılarak verilen alanlardan hangisinde turuncu tarımı yaygındır?

- A) I B) II C) III D) IV

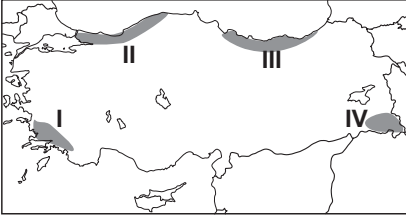
17. Aşağıdakilerden hangisi küresel ısınmanın sonuçlarından biri değildir?

- A) Su kaynaklarının azalması
B) Kıyı seviyelerinin değişmesi
C) Daha yüksek enlemlerde tarım yapılabilmesi
D) Büyük Okyanus'ta volkanik faaliyetlerin devam etmesi

18. Aşağıdaki ülkelerin hangisinde genç nüfus oranı daha fazladır?

- A) Almanya B) Türkiye
C) Danimarka D) Japonya

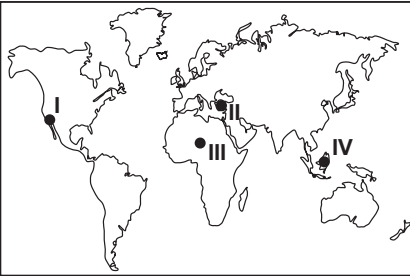
19.



Haritada numaralandırılarak verilen alanların hangisinde kış aylarında karayolu ulaşımında aksamlar daha fazla yaşanmaktadır?

- A) I B) II C) III D) IV

20.



Dünya haritasında numaralandırılarak verilen yerlerin hangisinde deprem görülme olasılığı daha azdır?

- A) I B) II C) III D) IV

(158) SEÇMELİ COĞRAFYA – 4

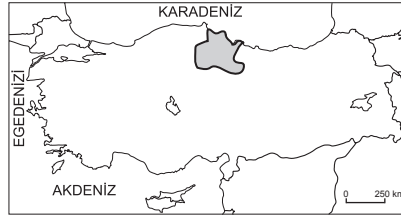
1. 1960'lı yıllardan sonra ülkemizde nüfus artış hızını düşürmeye yönelik politikalar uygulanmasının sebebi aşağıdakilerden hangisidir?

- A) Ortalama insan ömrünün uzaması
B) Kişi başına düşen geliri azaltacağı düşüncesi
C) Sanayi öncelikli kalkınmanın hedeflenmesi
D) Kentlere yoğun göç hareketinin başlaması

2. Türkiye nüfus politikalarının ikinci döneminin ana yönünü aşağıdakilerden hangisi belirlemiştir?

- A) Ekonomik koşullar
B) Çevresel etkenler
C) Nüfus hareketleri
D) Doğal afetler

3.



Türkiye haritasında taranarak verilen yer hangi bölgesel kalkınma projesinin uygulandığı alandır?

- A) Yeşilirmak Havzası Gelişim Projesi
B) Güneydoğu Anadolu Projesi
C) Doğu Karadeniz Projesi
D) Doğu Anadolu Projesi

4. Zonguldak, Bartın, Karabük Projesi kapsamında kalan bölgede hâkim olan ekonomik etkinlik aşağıdakilerden hangisidir?

- A) Turizm ve balıkçılık
B) Tarım ve hayvancılık
C) Madencilik ve ormancılık
D) Demir-çelik sanayisi ve kömür işletmeleri

5. Bir ülkenin uluslararası alanda izlediği siyasette aşağıdaki özelliklerinden hangisinin etkisi daha azdır?

- A) Askeri gücünün
B) Ekonomik gücünün
C) Eğitim durumunun
D) Teknolojik seviyesinin

6. Türkiye üç kıtanın birbirine yaklaştığı yerde bulunmakta, doğudan önemli petrol rezervlerine sahip Müslüman Orta Doğu ve Hazar havzası ile batıdan ise sanayileşmiş Avrupa arasında köprü konumundadır. Bunlara ek olarak Akdeniz, Ege ve Karadeniz'e sınırının bulunması İstanbul ve Çanakkale Boğazları'na sahip olması ülkemizin - - - önemini daha da arttırmaktadır.

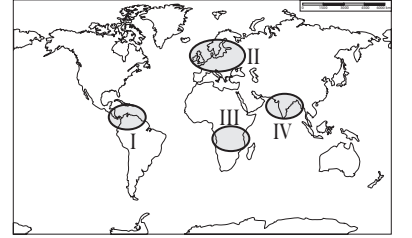
Metne göre boş bırakılan yere aşağıdakilerden hangisi gelmelidir?

- A) turistik B) askeri
C) jeopolitik D) transit

7. Kuzey Kıbrıs Türk Cumhuriyeti bağımsızlığını hangi yıl ilan etmiştir?

- A) 1914 B) 1960
C) 1974 D) 1983

8.



Haritada numaralandırılarak verilen yerlerin hangisinde insani gelişim endeksinde üst sıralarda yer alan ülkeler bulunmaktadır?

- A) I B) II C) III D) IV

9. Aşağıdakilerden hangisi gelişmiş ülkelerin özelliklerinden biri değildir?

- A) Nüfus artış hızları düşüktür.
B) Gelişmiş ticari hayata sahiptir.
C) Ekonomileri tarımsal üretime dayanır.
D) Yüksek miktarda enerji kaynağı tüketirler.

10. Aşağıdaki ülkelerden hangisi insani gelişim endeksinde alt sıralarda yer almaktadır?

- A) Kenya B) Meksika
C) Norveç D) Rusya

11. Aşağıdaki doğal kaynaklardan hangisi, rezervinin yüksek olduğu ülke için daha büyük zenginlik kaynağıdır?

- A) Cıva B) Linyit
C) Demir D) Petrol

1. OTURUM

12. Aşağıdakilerden hangisi günümüzdeki sıcak çatışma bölgelerinden biri değildir?

- A) Orta Doğu B) Batı Avrupa
C) Kuzey Afrika D) Kafkasya

13. Günümüzde, Dünya'daki her 10 tişörtten 2'si, her 10 oyuncaktan 4'ü, her 10 gemiden 3'ü Çin'de üretilmektedir.

Verilen bilgidен yararlanarak aşağıdakilerden hangisi söylenebilir?

- A) Çin enerji kaynakları bakımından zengin bir ülkedir.
B) Çin'de iş gücü sıkıntısı yaşanmaktadır.
C) Çin tarım sektörüne yeterince önem vermemiştir.
D) Çin Dünya'daki büyük sanayi ülkelerinden biridir.

14. Orta Doğu'da yaşanan su sorunlarının temel nedeni aşağıdakilerden hangisidir?

- A) Tarihi nedenler
B) Bölge nüfusunun artması
C) Ortak kullanıma açık olan su kaynaklarının kıt olması
D) Ülkelerin teknolojik birikiminin düşük olması

15. İnsani Gelişme Endeksi hangi kuruluş tarafından yayınlanmaktadır?

- A) Avrupa Birliği
B) Birleşmiş Milletler
C) Avrupa Konseyi
D) Dünya Bankası

16. Almanya ekonomisinde aşağıdaki sektörlerden hangisinin payı daha fazladır?

- A) Ormancılık B) Tarım
C) Sanayi D) Turizm

17. Aşağıdakilerden hangisi insan yaşamı için öncelikli olarak korunması gereken doğal kaynaktır?

- A) Su B) Orman
C) Petrol D) Uranyum

18. Aşağıdakilerden hangisi doğal mirasın korunmasında yapılan yanlış bir uygulamadır?

- A) Çöplerin geri dönüşüm için ayrılması
B) Ormanların gençleştirilip, genişletilmesi
C) Su kaynaklarının aşırı tüketilmesi
D) Düşük yakıt tüketen araçların tercih edilmesi

19. Doğu Anadolu Projesi'nde yer alan illerde yoğun olarak yapılan ekonomik faaliyet aşağıdakilerden hangisidir?

- A) Sanayi
B) Madencilik
C) Ticaret ve Ulaşım
D) Tarım ve Hayvancılık

20. Gelişmekte olan bir ülkede aşağıdaki durumlardan hangisi gözlemlenmez?

- A) İstihdam miktarı artar.
B) Enerjiye olan talep azalır.
C) Sanayi ve hizmet sektörü gelişir.
D) Kişi başına düşen milli gelir yükseilir.

(164) MATEMATİK - 4

1. Kökleri -1 ve 3 olan ikinci dereceden denklem aşağıdakilerden hangisidir?

- A) $x^2 - 2x + 3 = 0$
B) $x^2 + 2x + 3 = 0$
C) $x^2 - 2x - 3 = 0$
D) $x^2 + 2x - 3 = 0$

2. $2x^2 + 6x + 3 = 0$ denkleminin köklerinin çarpımı kaçtır?

- A) 3 B) $\frac{3}{2}$ C) -3 D) -6

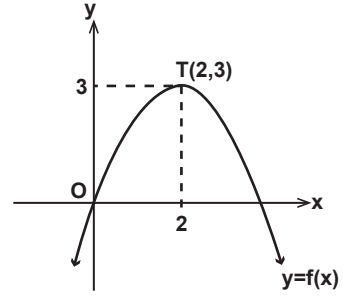
3. $i^{4000} + i^{4001} + i^{4002} + i^{4003}$ ifadesi aşağıdakilerden hangisine eşittir?

- A) $i + 1$ B) 1
C) $i - 1$ D) 0

4. $z_1 = 4 - 2i$ ve $z_2 = 2 + i$ olduğuna göre $\frac{z_1}{z_2}$ aşağıdakilerden hangisidir?

- A) $\frac{-6 - 8i}{5}$ B) $\frac{8i - 6}{5}$
C) $\frac{6 - 8i}{5}$ D) $\frac{6 + 8i}{5}$

5.



Şekilde grafiği verilen 2. dereceden $y = f(x)$ fonksiyonu aşağıdakilerden hangisidir?

- A) $f(x) = -4(x - 2)^2 - 3$
B) $f(x) = -(x - 2)^2 + 3$
C) $f(x) = -\frac{4}{3}(x - 3)^2 + 2$
D) $f(x) = -\frac{3}{4}(x - 2)^2 + 3$

6. $P(x) = -x^3 + 5x^2 + 4x - 10$ polinomunun $x - 3$ ile bölümünden kalan kaçtır?

- A) 20 B) 18 C) 16 D) 14

7. Aşağıda verilen fonksiyonlardan hangisi bir polinomdur?

- A) $f(x) = x^3 + 7x^2 - 4x + 3\sqrt{x} + 1$
B) $g(x) = 2x^2 + 9x - 2^x + 7$
C) $h(x) = \frac{4}{x}$
D) $k(x) = \sqrt{3}x^7 - \frac{1}{2}x - \frac{1}{11}$

8. $x \neq 0$ ve $x^2 + \frac{1}{x^2} = 11$ olduğuna göre $x - \frac{1}{x}$ 'in pozitif değeri kaçtır?

- A) 5 B) 3
C) $2\sqrt{2}$ D) $\sqrt{7}$

1. OTURUM

9. $\frac{x^2+3x+2}{x^2-1} \cdot \frac{x}{x^2+2x}$ ifadesinin en sade biçimi aşağıdakilerden hangisidir?

- A) $\frac{1}{x-1}$ B) $\frac{1}{x+1}$
C) $\frac{x}{x-1}$ D) $\frac{x}{x+1}$

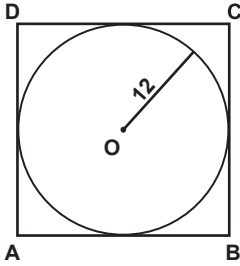
10. $x-y=3$ ve $y-z=3$ olduğuna göre $x^2-2y^2+z^2$ kaçtır?

- A) 9 B) 12 C) 15 D) 18

11. $(m^2-1)n+(n^2-1)m$ ifadesinin çarpanlarından biri aşağıdakilerden hangisidir?

- A) mn B) $1+mn$
C) $mn-1$ D) $m-n$

12.

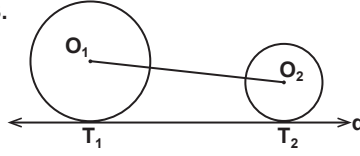


Şekildeki ABCD karesine içten teğet olan O merkezli çemberin yarıçapının uzunluğu 12 cm'dir.

Buna göre ABCD karesinin çevresi kaç santimetredir?

- A) 48 B) 60 C) 72 D) 96

13.



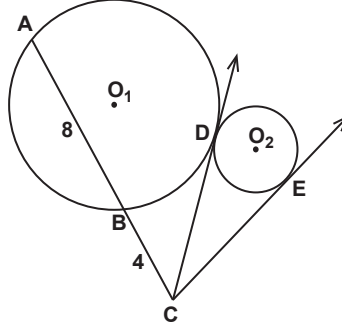
Şekildeki d doğrusu O_1 ve O_2 merkezli çemberlere sırasıyla T_1 ve T_2 noktalarında teğettir.

O_1 merkezli çemberin yarıçapının uzunluğu 6 cm, O_2 merkezli çemberin yarıçapının uzunluğu 2 cm ve $|O_1O_2|=20$ cm'dir.

Buna göre $|T_1T_2|$ kaç santimetredir?

- A) $8\sqrt{6}$ B) $8\sqrt{5}$
C) 16 D) 12

14.



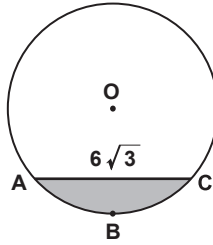
Şekildeki O_1 ve O_2 merkezli çemberlerde, $[CD]$ ve $[CE]$ teğetlerinin değme noktaları D ve E'dir.

$|AB|=8$ cm ve $|BC|=4$ cm'dir.

Buna göre $|CE|$ kaç santimetredir?

- A) 6 B) $4\sqrt{3}$
C) 9 D) $6\sqrt{3}$

15.



Şekildeki O merkezli çemberde $|AC|=6\sqrt{3}$ cm ve $m(\widehat{ABC})=120^\circ$ dir.

Buna göre boyalı bölgenin alanı kaç santimetrekaredir?

- A) $12\pi+9\sqrt{3}$ B) $9\pi+12\sqrt{3}$
C) $12\pi-9\sqrt{3}$ D) $9\pi-12\sqrt{3}$

16. Yüzlerinden birinin köşegen uzunluğu $10\sqrt{2}$ cm olan küpün hacmi kaç santimetreküptür?

- A) $250\sqrt{2}$ B) 1000
C) $600\sqrt{2}$ D) 1200

17. Yanal alanı 80 cm² ve yüksekliği 5 cm olan kare dik prizmanın taban çevresi kaç santimetredir?

- A) 8 B) 10 C) 12 D) 16

18. Tabanının yarıçapının uzunluğu 5 cm ve yüksekliği 8 cm olan dik dairesel koninin hacmi kaç santimetreküptür? (π yerine 3 alınız.)

- A) 200 B) 400 C) 600 D) 800

19. Yüksekliği 10 cm ve tabanının yarıçapının uzunluğu 2 cm olan dik dairesel silindir biçimindeki bir kabın tamamı su ile doludur.

Buna göre kaptaki suyun $\frac{1}{3}$ 'i boşaltıldığında geriye kaç santimetreküp su kalır? (π yerine 3 alınız.)

- A) 60 B) 70 C) 80 D) 90

20. Yüzey alanı 100π cm² olan kürenin yarıçapının uzunluğu kaç santimetredir?

- A) 5 B) 6 C) 8 D) 10

(165) SEÇ. MATEMATİK - 1


1. İlk dört terimi 6, 13, 20, 27 olan aritmetik dizinin 21. terimi kaçtır?

- A) 153 B) 146
C) 132 D) 118

2. Altıncı terimi 96, üçüncü terimi 12 olan geometrik dizinin ortak çarpanı kaçtır?

- A) 3 B) $\frac{5}{2}$ C) 2 D) $\frac{3}{2}$

1. OTURUM

3. Ardışık üç terimi $a + b$, $2a - b$, $a \cdot b$ olan bir dizi hem aritmetik hem geometrik dizidir.
 $b \neq 0$ olduğuna göre a kaçtır?
A) 2 B) 3 C) 4 D) 5
4. Dört basamaklı 574A sayısı 4 ile bölünebildiğine göre A'nın alabileceği değerlerin çarpımı kaçtır?
A) 0 B) 16 C) 24 D) 32
5. Dört basamaklı 7M3K sayısının 15 ile bölümünden kalan 3 olduğuna göre M'nin alabileceği değerlerin toplamı kaçtır?
A) 30 B) 31 C) 32 D) 33
6. Üç basamaklı 61A sayısı 6 ile tam bölünebildiğine göre A aşağıdaki-lerden hangisi olabilir?
A) 6 B) 7 C) 8 D) 9
7. Beş basamaklı M1 82N sayısı 45 ile bölünebilen bir çift sayı olduğuna göre M kaçtır?
A) 7 B) 6 C) 5 D) 4
8. $2^3 \cdot 3^4 \cdot 5^2$ ve $2^2 \cdot 3^3 \cdot 5^4$ sayılarının EKOK'unun EBOB'una oranı kaçtır?
A) 120 B) 150 C) 180 D) 210
9. Ayrıtlarının uzunlukları 2 cm, 3 cm ve 4 cm olan dikdörtgenler prizmaları kullanılarak küp oluşturulacaktır.
Buna göre kullanılacak dikdörtgenler prizması sayısı en az kaç olabilir?
A) 72 B) 144 C) 424 D) 546
10. Ali 48 günde bir, Veli 36 günde bir nöbet tutmaktadır.
Ali ve Veli ilk nöbetlerini birlikte tuttuktan en az kaç gün sonra tekrar birlikte nöbet tutarlar?
A) 54 B) 96 C) 108 D) 144
11. Fiyatı 2800 lira olan buzdolabının 400 lirasını peşin ödeyen Selami Bey kalan borcunu 8 eşit taksitle ödeyecektir.
Buna göre her bir taksit kaç lira olur?
A) 300 B) 350
C) 400 D) 450
12. Etiket fiyatı 80 lira olan bir malın %15 zamli satış fiyatı kaç liradır?
A) 102 B) 100 C) 96 D) 92
13. Un ve şekerden oluşan bir karışımın %60'ı un, kalanı şekerdir. Bu karışım-daki un miktarı %25 azaltılıp yerine aynı miktarda şeker ekleniyor.
Buna göre son durumdaki karışımın şeker oranı yüzde kaç olur?
A) 60 B) 55 C) 50 D) 45
14. Bankaya 1 yıllığına %20 faizle yatırılan bir miktar para yıl sonunda faiziy-le birlikte 96 000 lira olarak çekiliyor.
Buna göre bankaya yatırılan para kaç liradır?
A) 60 000 B) 70 000
C) 80 000 D) 90 000
15. Şeker oranı %60 olan 50 litre şekerli suya 25 litre saf su ilave edildiğinde yeni karışım-daki şeker oranı yüzde kaç olur?
A) 30 B) 32 C) 35 D) 40
16. 8, 12 ve 16 yaşlarındaki üç kardeş yaşlarıyla ters orantılı olacak biçimde 65 adet bilyeyi paylaşıyor.
Buna göre en çok bilye alan kardeş kaç bilye almıştır?
A) 30 B) 35 C) 40 D) 45
17. Bir bisikletli sabit hızla toplam 18 saatte, A şehrinden B şehrine gidip aynı yoldan A şehrine geri dönmüştür.
Buna göre bu bisikletli sabit hızını 3 katına çıkardığında A şehrinden B şehrine kaç saatte gidebilir?
A) 1 B) 3 C) 6 D) 12
18. Eşit iş gücündeki 20 usta 1000 sandalyeyi 5 saatte yapmaktadır.
Buna göre bu ustalardan kaç 400 sandalyeyi 4 saatte yapabilir?
A) 6 B) 8 C) 10 D) 12
19. Yaş üzüm kurutulduğunda kütle-sinin %60'ını kaybetmektedir.
Buna göre 320 kg yaş üzüm kurutulduğunda kaç kilogram kuru üzüm elde edilir?
A) 192 B) 164 C) 136 D) 128
20. 
Hızı saatte 50 km olan hareketli A noktasından, hızı saatte 70 km olan hareketli B noktasından birbirlerine doğru aynı anda hareket ettiklerinde 4 saat sonra karşılaşıyorlar.
Buna göre |AB| kaç kilometredir?
A) 480 B) 460
C) 440 D) 420

(181) ALMANCA – 1

1 - 17. sorularda boş bırakılan yere uygun gelen ek, kelime ya da ifadeyi işaretleyiniz.

1. Aslı : Womit - - - - er?
Susanne : Er - - - - mit dem Computer.
A) spielt / spielt
B) spiele / spiele
C) spielst / spielt
D) spielt / spielt
2. Fatma ist nicht - - - - fleißig - - - - Mehtap.
A) wie / so B) wie / wie
C) so / so D) so / wie
3. Ich will schlafen, - - - - ich müde bin.
A) denn B) darum
C) weil D) dann

1. OTURUM

4. Ich habe meine Tasche - - - - Schule vergessen.

- A) bei
B) in der
C) unter die
D) auf dem

5. Die Frau sitzt - - - - dem Stuhl.



- A) in
B) unter
C) auf
D) neben

6. Dein- - - - Schwester ist älter als mein- - - - Schwester.

- A) -en / -e
B) -e / -e
C) -e / -en
D) - / -

7. A : - - - - kommst du?

B : Ich komme aus Berlin.

- A) Woher
B) Wohin
C) Womit
D) Wozu

8. A : - - - - fährst du nach Bursa?

B : - - - - Dienstag.

- A) Wie / Um
B) Wann / Am
C) Womit / Im
D) Warum / Weil

9. Ich habe - - - - Sommerferien.

- A) klein
B) kurz
C) groß
D) lange

10. Udo sagt, - - - - er sehr krank ist.

- A) dass
B) denn
C) ob
D) was

11. A: Wo arbeitet dein- - - - Mutter?

B: Sie arbeitet - - - - einer Schule.

- A) -er / um
B) -e / ins
C) -e / in
D) -en / auf

12. A: - - - - gehen wir ins Theater?

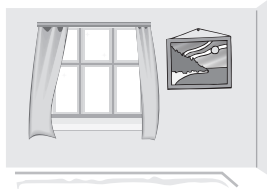
B: Am Samstag.

- A) Wo
B) Wann
C) Wie
D) Wer

13. Ali, du kannst heute - - - - uns schlafen.

- A) bei
B) um
C) im
D) zu

14.



A: Wo ist das Bild?

B: Es ist - - - - dem Fenster.

- A) über
B) unter
C) im
D) neben

15. - - - - 9 Uhr müssen wir in der Schule sein.

- A) Bei
B) Zu
C) Um
D) Im

16. A: - - - - wir zusammen Hausaufgaben machen?

B: Ja.

- A) Können
B) Kannst
C) Kann
D) Konnte

17.



Das sind - - - - .

- A) Äpfel
B) Birnen
C) Zitronen
D) Bananen

18. Aşağıdaki sıfatlardan hangisinin zıt anlamı yanlış verilmiştir?

- A) viel x wenig
B) gut x schlecht
C) groß x größer
D) kurz x lang

19. Aşağıdakilerden hangisi anlamca diğerlerinden farklıdır?

- A) Tee
B) Brot
C) Kaffee
D) Milch

20. Aşağıda verilen sıfatlardan hangisinin çekimi yanlıştır?

	Positiv	Komparativ	Superlativ
A)	kurz	kürzer	am kürzesten
B)	warm	wärmer	am wärmsten
C)	billig	billiger	am billigsten
D)	viel	vieler	am vielsten

(182) İNGİLİZCE – 2

1 - 20. sorularda boş bırakılan yere uygun gelen kelime ya da ifadeyi işaretleyiniz.

1. Nebuchadnezzar - - - - the Hanging Gardens of Babylon to please his queen, Amuhia.

- A) builds
B) is building
C) built
D) has built

2. Dear passengers, your - - - - is under your seat.

- A) life jacket
B) flight attendant
C) boarding ticket
D) emergency exit

3. "Pulse" means - - - - .

- A) the regular beat of heart
B) the emergency room
C) an unexpected situation
D) someone who helps people

4. Please pass properly from the - - - - points and prepare your papers in advance.

- A) baggage reclaim
B) oxygen mask
C) seat belt
D) security check

5. We should call 112 in case of a/an - - - - .

- A) position
B) situation
C) emergency
D) infection

6. Susan : What kind of a party are you going to - - - - ?

Mark : It's going to be a surprise party for my little sister.

- A) help
B) throw
C) shop
D) invite

1. OTURUM

7. **Waiter** : Welcome to Big Steak House. ----?

Customer : A table for 4 please.

Waiter : This way, please.

- A) How will you pay
- B) Can I help you
- C) Can you find baklava
- D) Is it too much spicy

8. **Tom** : How do French people dress?

George : ----.

- A) They prefer a fashionable style
- B) It is an extremely large country
- C) Rice is the major food source there
- D) It is famous for its tourist attractions

9. **Waiter** : Are you ready to order, madam?

Mary : ----, I will have the soup of the day and for the main course I want a steak.

- A) Just for me
- B) For my starter
- C) Nothing else
- D) Of course

10. **Tracey** : Great Chef's Restaurant. How can I help you?

Andreas : I would like to make a reservation for tonight.

Tracey : ----?

Andreas: We would prefer 8:00.

- A) For how many people do you want the reservation
- B) What time would you like the reservation for
- C) Do you have any free table for tonight
- D) Is the service included to the bill

11. **Timothy** : ----?

Jennifer : Last Saturday.

- A) Where did you go last summer
- B) How many days did you stay in China
- C) When was the last time you got up late
- D) How did you travel to the Taj Mahal

12. **Amanda** : ----?

Tolga : In İstanbul.

- A) When were you born
- B) What did you do yesterday
- C) When did you go to the cinema
- D) Where were you born

13. **A** : ---- did you buy that sweater?

B : Last weekend.

- A) When
- B) Why
- C) Where
- D) What

14. **Jack** : I think I have a sore throat.

Tim : ----.

- A) Fire safety is very important
- B) You had better see a doctor
- C) Remember to call 155
- D) You should stop bleeding

15. **Sam** : What should I do during an earthquake?

Jerry : ----.

- A) You had better go to a dentist
- B) You must see a dermatologist
- C) You had better put a clean cloth
- D) You must cover your head

16. **Tracey**: I'm bored at home.

Amy : Why don't we go to a café?

Tracey: ----. Let's go.

- A) Sorry but I can't
- B) No, not yet
- C) That sounds great
- D) I'd rather not

17. **Greg** : Is Mr. Jakscon in?

The operator : Just a second, please. ----

- A) I'll put him through the line.
- B) Are you available?
- C) Can I leave a message?
- D) I'm calling about my party.

18. **Sarah** : ----?

Andrea : I'd rather not because I have some plans for the weekend.

- A) Can you speak slowly, please
- B) Do you mind if I use your pen
- C) Can I talk to Mrs. Johansson, please
- D) Do you want to go to a camp at the weekend

19. **Teacher** : How many hours do you spend in front of TV?

Student : ----.

- A) Social networking can be pretty fun
- B) It has a lot of disadvantages
- C) I prefer documentaries
- D) About two or three hours

20. **Sue** : What do you think about social networking?

Venus : ----.

Sue : Absolutely!

- A) I am sorry for interrupting
- B) To me, it is a waste of time
- C) You have a point there
- D) I'd exactly say the opposite

(207) SEÇ. PSİKOLOJİ – 2

1. Aşağıdakilerden hangisi zekânın tanımları arasında yer almaz?

- A) Zekâ, soyut düşünme gücüdür.
- B) Zekâ, çevreye uyum sağlama gücüdür
- C) Zekâ, iyi düşünme, iyi anlama, iyi muhakeme gücüdür.
- D) Zekâ, insanı etkileyen nesne, güç ve uyaranların hepsidir.

2. Zihinsel gelişim kuramına göre çocuğun sayısal ilişkileri kavradığı dönem aşağıdakilerden hangisidir?

- A) İşlem öncesi dönem
- B) Somut işlemler dönemi
- C) Soyut işlemler dönemi
- D) Duyusal devimsel dönem

3. • Fareler üzerinde yapılan bir araştırmada zeki farelerin yavrularının zeki, zekâsı geri olan farelerin yavrularının da zekâca geri oldukları görülmüştür.

- Farklı çevrelerde yaşayan tek yurta ikizlerinin, çevresel etkenlere bağlı olarak zekâ düzeylerinin farklı olduğu görülmüştür.

Bu bilgilere dayanarak aşağıdakilerden hangisine ulaşılabilir?

- A) Kalıtım zekâyı belirleyen tek unsurdur.
- B) Zekâ üzerinde kalıtımla birlikte çevre de etkilidir.
- C) Zekâ sadece çevresel etkenler tarafından belirlenir.
- D) Çevrenin zekâ üzerinde herhangi bir etkisi yoktur.

1. OTURUM

4. Zekâ bölümü "90 - 110" değerleri arasında olan bireyin zekâ durumu hakkında aşağıdakilerden hangisi söylenebilir?

- A) Normal zekâlı B) Üstün zekâlı
C) Zekâca geri D) Düşük zekâlı

5. I. Testler, kişiliği de ölçecek şekilde hazırlanmalıdır.
II. Testlerin uygulanacağı yaş grupları dikkate alınmalıdır.
III. Kültürün etkisini ortadan kaldırmak amacıyla, büyük ölçüde kültürden bağımsız testler hazırlanmalıdır.

Yukarıdakilerden hangileri zekâ testleri oluştururken dikkat edilmesi gerekenler arasında yer alır?

- A) Yalnız I B) Yalnız II
C) I ve III. D) II ve III.

6. 19.yy'da ilkel toplumlar üzerinde araştırma yapan antropologlar, kabilelerin genel anlayışı ile yaygın davranış özellikleri arasında bir paralellik görmüşlerdir. Örneğin; Çambuli kabilesinde erkek evde çocuklarla ilgilenirken, kadının ava gitmesi ve erkek kişiliğinde görülen özellikleri taşıması, yaygın olarak görülen kadın erkek davranışlarına aykırı bir durumdur.

Bu parçadan çıkarılabilecek sonuç aşağıdakilerden hangisidir?

- A) Kişilik toplum ve kültürden etkilenmez.
B) Kalıtım kişiliğin temel yapı taşlarını oluşturur.
C) Çevre, kişilik üzerinde etkisi olan faktörlerdendir.
D) Kişilik sadece biyolojik etmenlerle açıklanabilir.

7. Temel eğilim kuramlarına göre kişiliği belirleyen temel etken aşağıdakilerden hangisidir?

- A) Bireyin aile yapısı
B) Bireyin beden yapısı
C) Bireyin geçmiş yaşantıları
D) Toplumun değer yargıları

8. I. Kişilik, öğrenilmiş davranışlardan meydana gelir.
II. Kişilik, "uyarıcı-organizma-tepki" ilişkisiyle açıklanabilir.
III. Bilinçaltına itilen duygu ve düşünceler insanın kişiliğini oluşturur.

Yukarıdakilerden hangileri öğrenme kuramlarının kişilik konusundaki görüşleri arasında yer alır?

- A) I ve II. B) I ve III.
C) II ve III. D) I, II ve III.

9. Aşağıdakilerden hangisi kişiliği ölçmek için hazırlanan projektif testler arasında yer almaz?

- A) Mürekkep lekesi testi
B) Değerlendirme ölçekleri
C) Resim yorumlama testleri
D) Hikâye tamamlama testleri

10. Kişinin yaşama uyumunda başarılı olması, yaşama isteği duyması, dilek ve isteklerini toplumla uzlaşacak biçimde karşılayabilme halidir.

Verilen açıklama aşağıdaki kavramlardan hangisiyle ilgilidir?

- A) Libido B) Kötü stres
C) Ruh sağlığı D) Dengelenme

11. Bir insana ruhsal açıdan sağlıklı veya sağlıksız diyebilmek için çoğunlukla davranışlarının nasıl olduğuna ve yaşantısındaki etkilerine bakmak gerekir.

Buna göre aşağıdakilerden hangisi sağlıksız insanın özelliklerindedir?

- A) Gülüp eğlenebiliyor ve çalışabiliyor olmak
B) Bedensel ve ruhsal olarak normal yaşamını sürdürebiliyor olmak
C) Aşırı kaygı ve stres altında olmak
D) Günlük yaşamdaki görev ve sorumluluklarını yerine getirebiliyor olmak

12. Çok kızdığı halde babasına ve annesine karşılık verememek aşağıdaki engel türlerinden hangisine örnektir?

- A) Toplumsal B) Bedensel
C) Fiziksel D) Ruhsal

13. Aşağıdakilerden hangisi kaçınma - kaçınma çatışmasına örnek olabilir?

- A) Kişinin televizyonda aynı saatlerde yayınlanan iki filmi de izlemek istemesi
B) Pikniğe gitmek isteyen ama ders çalışmak zorunda olan öğrencinin yaşadığı durum
C) Kişinin pasta yemekten hoşlanmasına rağmen kilo almak istememesi
D) Ameliyat olması gereken bir hastanın hem ağrı çekmek istememesi hem de ameliyat olmaktan korkması

14. Engellenme, çatışma, yetersiz veya aşırı uyarılma ve stres organizmada gerilim yaratarak kararlı iç çevre düzenini bozar. Bozulmuş iç düzen insanın yaşaması için uygun değildir. Bozulan dengeyi yeniden kurmak için organizma otomatik olarak faaliyete geçer.

Bu durumu ifade eden kavram aşağıdakilerden hangisidir?

- A) Stres B) Dengelenme
C) Hipofiz D) Hormon

15. Aşağıdakilerden hangisi psikolojik stresin iç nedenlerinden biridir?

- A) Mikrop, bakteri ve virüsler
B) İklim ve doğa şartları
C) Çevre kirliliği
D) Düşünsel düzeydeki çatışmalar

16. Aşağıdakilerden hangisi iyi stresin insan üzerindeki etkilerinden değildir?

- A) Vücudun direnme gücünü artırır.
B) İnsanı başarması güç işlerde başarılı kılabilir.
C) Dikkatin dağılmasına neden olur.
D) Tüm organizma, hızlı kan dolaşımı ve bol oksijenle temizlenir.

17. Beğendiği bir kızı ailesinden isteyen delikanlıya, ailenin kızı vermesi üzerine delikanlının yaşadığı stresten kurtulmak için başka bir kıza talip olması aşağıdaki kavramlardan hangisine örnek olabilir?

- A) Atılım B) Çekilme
C) Kaçma D) Uzlaşma

18. İki grup fare üzerinde deney yapılmıştır. Bu farelere kanser yapıcı özelliği olan bir virüs aşılanmıştır. 1. Grup fareler, sakin ve düzenli bir ortama; 2. Grup fareler, gürültülü, düzensiz ve kirli bir ortama bırakılmıştır. Deneyin sonucunda 1. Grup farelerin %7'si; 2. Grup farelerin % 92'si kansere yakalanmıştır.

Bu deneyle ilgili aşağıdaki ifadelerden hangisi doğrudur?

- A) Psikolojik nedenlerin organizma üzerindeki etkisi araştırılmıştır.
B) Çevresel etkenlere bağlı stresin organizma üzerindeki etkisi incelenmiştir.
C) Organizmanın duygusal değişimlere verdiği tepkiler ele alınmıştır.
D) Organizmanın hastalanmasına sebep olan bedensel etkenler incelenmiştir.

1. OTURUM

19. Alınamayan bir giysi için "zaten iki gün sonra modası geçecekti" demek aşağıdaki savunma mekanizmalarından hangisine örnek olabilir?

- A) Mantiğa bürüme
- B) Ödünleme
- C) Yüceltme
- D) Yansıtma

20. Aşağıdakilerden hangisi insanın yaşamını yeniden kurabilmesi için yararlanan tedavi yöntemlerinden değildir?

- A) Grup terapisi
- B) İş terapisi
- C) Paranoya
- D) Psikodrama

(221) SAĞLIK BİLG. VE TRAFİK KÜLT. – 1

1. I. Ulaşım

- II. Fiziksel çevre
- III. Konut sorunu

Yukarıdakilerden hangileri engellilerin topluma katılmalarında yaşadıkları en büyük sıkıntılardandır?

- A) Yalnız I.
- B) Yalnız II.
- C) Yalnız III.
- D) I, II ve III.

2. Aşağıdakilerden hangisi insan sağlığını etkileyen kimyasal etmenlerdendir?

- A) Giyim eşyaları
- B) Çevrenin iklimi
- C) Gıda katkı maddeleri
- D) Ev ve iş yerlerinin havası

3. Aşağıdakilerden hangisi akılcı ilaç kullanımının sağlanabilmesi için dikkat edilmesi gereken hususlardandır?

- A) İlacın, doktorun veya eczacının önerisi dışında çiğnenerek, kırılarak, bölünerek veya suda çözülerek kullanılması
- B) İlaç dışı gıda takviyesi, bitkisel ürün gibi tedaviye yönelik diğer ürünlerin bilinçsiz kullanımından kaçınılması
- C) Buzdolabında saklanması gereken ilaçların buzlukta saklanması ve dondurulması
- D) Antibiyotik türü ilaçların doktor tavsiyesi olmadan kullanılması

4. Banyo yapma ve giyecek temizliğiyle ilgili olarak verilenlerden hangisi doğrudur?

- A) Sabun ve 35-40°C sıcaklıktaki su ile derinin ovulması kirin akıtılmasını engeller.
- B) Küveti doldurarak yıkanmak, duş tarzında ya da su dökerek yıkanmaktan daha sağlıklıdır.
- C) Banyodan sonra temiz, ütülenmiş iç çamaşırları giyilmeli ve en geç iki günde bir değiştirilmelidir.
- D) Giyeceklerin alerjik reaksiyona neden olan ve teri emmeyen malzemeden yapılmış olanı tercih edilmelidir.

5. Aşağıdakilerden hangisi Kırım-Kongo Kanamalı Ateşi hastalığının belirtilerinden biri değildir?

- A) İştahın artması
- B) Kırıklık, hâlsizlik
- C) Karın ağrısı ve ishal
- D) Ani başlayan baş ağrısı

6. Bilinçsizce kullanılan vitamin hapları sağlığa zararlıdır ve birçok hastalığa neden olabilmektedir. Bu nedenle vitamin hapları doktor kontrolü altında tüketilmelidir.

Buna göre hangi vitamin haplarının gereğinden fazla kullanımı kandaki kalsiyumun yüksek konsantrasyon oluşturmaya neden olur?

- A) A vitamini
- B) C vitamini
- C) D vitamini
- D) E vitamini

7. Aşağıdakilerden hangisi egzersiz sırasında vücutta meydana gelen olaylardandır?

- A) Kalp atımının yavaşlaması
- B) Kasların daha zayıf kasılması
- C) Akciğerlerin daha yavaş çalışması
- D) Kalbin vücuda kanı daha hızlı pompalaması

8. Aşağıdakilerden hangisi obezitenin yol açtığı fiziksel sorunlardandır?

- A) Blumia nervosa
- B) Anoreksiya nervosa
- C) Karaciğer yağlanması
- D) Gece yeme sendromu

9. Beden kitle indeksi, yetişkin bir insanın kilosunun boyuna göre normal olup olmadığını gösteren bir parametredir.

Buna göre beden kitle indeksi "18,5 - 24,9 kg/m² arasında" olan kişiler için ne söylenebilir?

- A) Normal kilolu
- B) I. derece obez
- C) Fazla kilolu
- D) Zayıf

10. Ergenlik dönemi, kaç yaş arasında kapsar?

- A) 1 - 10
- B) 12 - 21
- C) 23 - 32
- D) 34 - 43

11. • Ruh ve beden sağlığını korur.
• Üretici ve verimli bir yaşam biçimini engeller.

Stres yönetimi ile ilgili verilen cümleler doğru-yanlış olarak değerlendirildiğinde sıralama aşağıdakilerden hangisi olur?

- A) D - Y
- B) Y - D
- C) D - D
- D) Y - Y

12. I. Süreklilik özelliği taşıması
II. Yapılan davranışın kasıtlı olması
III. Zorba ve kurban arasında güç dengesizliğinin olması

Yukarıdakilerden hangileri bir davranışın akran zorbalığı olarak tanımlanabilmesi için gerekli olan temel ölçütlerdendir?

- A) I ve II.
- B) I ve III.
- C) II ve III.
- D) I, II ve III.

13. Sigara içenlerin hangi kanser türüne yakalanma riski daha fazladır?

- A) Prostat kanserine
- B) Mesane kanserine
- C) Akciğer kanserine
- D) Rahim ağzı kanserine

14. Alkol bağımlılığının, bireyin aile ve toplumsal hayatındaki ilişkilerine etkileriyle ilgili olarak verilenlerden hangisi yanlıştır?

- A) Alkol bağımlılığının kişinin düşünme yeteneği üzerine etkisi yoktur.
- B) Alkol bağımlısı olan kişinin sosyal yaşamdaki konumu, arkadaş çevresi ile ilişkileri zarar görür.
- C) Alkolün verdiği geçici kendine güven duygusu, öfke ve saldırganlık alkol bağımlılarını suça itebilir.
- D) Sosyal tüketimcilik denilen tüketim şekli, bazı insanlar için alkolizmin ilk basamağını oluşturmaktadır.

1. OTURUM

15. Acil yardımla ilgili olarak verilenlerden hangisi doğrudur?

- A) İlaçsız uygulamaları kapsamı
- B) Çevredeki imkânların kullanılması
- C) İlk yardımcı tarafından uygulanması
- D) Olay yeri, ambulans ve sağlık kuruluşunda uygulanması

16. Her türlü acil durumlarda 112 Acil Çağrı Merkezi'nin aranması ve gerekli bilgilerin doğru olarak verilmesi bir insanlık görevidir.

Buna göre aşağıdakilerden hangisi acil durumlarda (112'nin aranması sırasında) dikkat edilmesi gereken hususlardandır?

- A) Olayın tanımını yapmaktan kaçınmak
- B) Kimin, hangi numaradan aradığını bildirmemek
- C) Acil Çağrı Merkezi tarafından sorulan sorulara net bir şekilde cevap vermek
- D) Herhangi bir ilk yardım uygulaması yapıldıysa nasıl bir yardım yapıldığını gizlemek

17. Hasta/yaralının bilinci kapalı, solunumu ve nabızı var ise hasta/yaralıya hangi pozisyon verilir?

- A) Şok
- B) Koma
- C) Yarı oturur
- D) Sirtüstü yatış

18. Vücuttaki kanın % kaçından fazlası kaybedildiğinde hayati tehlike ortaya çıkar?

- A) 5
- B) 10
- C) 15
- D) 20

19. Aşağıdakilerden hangisi hasta/yaralıya şok pozisyonu verilirken izlenmesi gereken işlem basamaklarındandır?

- A) Düz olarak yüzüstü yatırılması
- B) Vücuduna soğuk uygulama yapılması
- C) Yaşam bulgularından sadece solunumunun değerlendirilmesi
- D) Bacaklarının 30 cm kadar yukarı kaldırılarak altına destek konulması

20. Aşağıdakilerden hangisi sindirim yoluyla zehirlenmelerde yapılması gereken ilk yardım uygulamalarından biri değildir?

- A) Hastanın üzerinin örtülmesi
- B) Hastanın kusturulmaya çalışılması
- C) Kusma, bulantı, ishal gibi belirtilerin değerlendirilmesi
- D) Ağız zehirli madde ile temas etmişse ağzın su ile çalkalanması

(243) FRANSIZCA – 4

1 - 18. sorularda boş bırakılan yere uygun gelen sözcük ya da ifadeyi işaretleyiniz.

1. Lucie, son amie et moi, - - - - faisons de la gymnastique dans la salle de sport.

- A) elles
- B) vous
- C) on
- D) nous

2. Mme Dubois : Bonjour, je voudrais un billet pour Paris.

Employée : Oui, madame, - - - - ?

- A) vous partez le matin ou l'après-midi
- B) avez-vous des enfants
- C) vous gagnez combien
- D) où allez-vous

3. Pour la fête, ne mets pas cette cravate-ci, mais - - - - .

- A) celui-ci
- B) celles-ci
- C) celle-là
- D) ceux-là

4. Ma tarte n'est pas bonne, mais - - - - de Fatma est délicieuse.

- A) celui
- B) celle
- C) celles
- D) ceux

5. Sylvie a 54 livres. Murat a 61 livres. Sylvie a - - - - de livres que Murat.

- A) plus
- B) moins
- C) autant
- D) aussi

6. La tante de Jean a 56 ans. L'oncle de Jean a 60 ans. L'oncle de Jean est - - - - âgé que sa tante.

- A) plus
- B) moins
- C) autant
- D) aussi

7. Ma femme est de Gaziantep et elle cuisine très bien. Elle fait - - - - délicieux baklavas du monde.

- A) les moins
- B) le plus
- C) les plus
- D) la moins

8. Paul : C'est bien la bicyclette de ton frère ?

Jean : Oui, c'est - - - - .

- A) le mien
- B) le sien
- C) la sienne
- D) la tienne

9. Henri : Ton blouson, c'est le bleu ?
Philippe : Mais non, - - - - est gris.

- A) le mien
- B) la mienne
- C) le tien
- D) les nôtres

10. Voilà la ville - - - - je suis né.

- A) d'où
- B) qui
- C) quoi
- D) où

11. Si tu veux faire de la gymnastique, tu peux aller dans - - - - .

- A) un bon restaurant
- B) une salle de sport
- C) un immeuble ancien
- D) une salle de bains

12. L'année dernière, je - - - - au bord de la mer pour passer mes vacances.

- A) allais
- B) vais
- C) suis allé
- D) aller

13. Albert : Voulez-vous manger - - - - ?
Pierre : Oui, avec plaisir.

- A) de l'eau minérale
- B) des bonbons
- C) du jus d'orange
- D) de la limonade

14. Tu dois prendre l'escalier parce qu'il n'y a pas d' - - - - dans l'immeuble.

- A) avenue
- B) étage
- C) appartement
- D) ascenseur

15. Je suis actuellement à Antalya. Je vais écrire - - - - à mon amie.

- A) une carte postale
- B) un cahier
- C) un colis
- D) une gomme

16. J'ai très froid, donc je dois mettre mon - - - - .

- A) cravate
- B) parapluie
- C) pull
- D) bottes

17. - - - - entre dans la classe et salue les élèves avant de commencer le cours.

- A) Le chauffeur de taxi
- B) Le collégien
- C) Le professeur
- D) L'agent de police

1. OTURUM

18. Pour aller en France, je dois prendre - - - - parce que c'est plus rapide.

- A) la bicyclette B) l'ascenseur
C) le métro D) l'avion

19. Aşağıdaki cümlelerin hangisinde "passé composé" kullanılmıştır?

- A) Tu ne viens pas au cinéma avec moi ?
B) Ils sont allés au bord de la mer.
C) Nous venons de laver notre voiture.
D) N'oubliez pas de fermer la fenêtre.

20. "Elle vient de garer la voiture." cümlesinde hangi zaman kullanılmıştır?

- A) passé récent
B) passé composé
C) futur proche
D) futur

(244) FRANSIZCA – 5

1 - 20. sorularda boş bırakılan yere uygun gelen sözcük ya da ifadeyi işaretleyiniz.

1. Mon mari est dentiste, et ma fille aussi. - - - - travaillent dans le même cabinet.

- A) Ils B) Elles
C) Nous D) Je

2. L'Afrique est un continent chaud - - - - il y a beaucoup d'animaux sauvages.

- A) qui B) qu'
C) où D) dont

3. Marie va chez son amie Zeynep pour parler avec - - - -.

- A) elle B) il
C) tu D) ils

4. Istanbul est une grande ville - - - - offre beaucoup de belles choses.

- A) dont B) qu'
C) où D) qui

5. Ma voiture ne marche pas. Je ne sais pas - - - - aller au travail.

- A) parce que B) combien
C) où D) comment

6. La cravate - - - - tu portes est très longue.

- A) dont B) que
C) qui D) où

7. Le grand architecte Sinan - - - - venu au monde en 1490, à Kayseri.

- A) est B) a
C) sont D) es

8. En hiver les gens vont - - - - pour faire du ski.

- A) au café
B) à la bibliothèque
C) à la montagne
D) à l'opéra

9. Selon les prévisions météorologiques, - - - - il va faire beau et très chaud sur tout le pays.

- A) hier
B) demain
C) la semaine dernière
D) lundi passé

10. Je préfère écouter les chansons - - - - les paroles portent un message.

- A) dont B) que
C) qui D) ce que

11. Il faut faire attention au feu de signalisation - - - - la rue.

- A) traversant
B) traversent
C) traverser
D) en traversant

12. Un restaurant - - - - du kébab ? Il y en a beaucoup dans ce quartier.

- A) faire B) fais
C) faisant D) en faisant

13. Pendant les grandes - - - -, j'ai lu tous les romans de cet auteur.

- A) bibliothèques
B) mois
C) livres
D) vacances

14. Si Paul a assez d'argent, il ira - - - - au bord de la mer.

- A) empêcher B) tomber
C) vivre D) saluer

15. Si tu es fatigué, va te coucher dans ton - - - - !

- A) chaise B) lit
C) piscine D) chambre

16. Funda va à l'école à pied - - - - sa maison n'est pas loin.

- A) parce que B) pourquoi
C) quand D) pour

17. Ma femme et ma fille - - - - fait le tour du marché pour acheter un blouson.

- A) avons B) ont
C) sont D) êtes

18. - - - - Hollande, les jeunes vont à l'école - - - - vélo.

- A) Au / en B) En /aux
C) En / à D) À / en

19. Cemil : - - - - tu rentres chez toi ?
Jacques : À pied.

- A) Comment B) Quand
C) Pourquoi D) Combien

20. Les bébés d'aujourd'hui mangent en - - - - la télévision.

- A) regarde B) regarder
C) regardons D) regardant

(244) ALMANCA – 5

1 - 18. sorularda boş bırakılan yere uygun gelen ek, kelime ya da ifadeyi işaretleyiniz.

1. Das Konzert ist - - - - 18 Uhr - - - - 20 Uhr.


- A) von / bis B) bis / von
C) um / zu D) zu / um

2. - - - - Juli ist es sehr warm in Antalya.

- A) Auf B) Im
C) Um D) Bei

1. OTURUM

3. Tischtennis - - - - .



- A) lesen B) schwimmen
C) fahren D) spielen
4. **A** : - - - - gehst du schwimmen in der Woche?
B : Dreimal.
- A) Wozu B) Womit
C) Wie oft D) Wie lange
5. **viel**, - - - -, **am meisten**
- A) viele B) mehr
C) meiste D) wenig
6. **Der** - - - - **Berg in der Türkei ist Ağrı Dağı.**
- A) hoch B) höchste
C) höher D) am höchsten
7. **A** : - - - - sparst du Geld?
B : Um mir eine Wohnung - - - - kaufen.
- A) Wem / um B) Wann / am
C) Wozu / zu D) Wie oft / von
8. **Ich spreche kein Englisch, - - - - ich kann gut Deutsch sprechen.**
- A) weil B) darum
C) und D) aber
9. **A** : Ich habe das Essen in der Kantine nicht gegessen.
B : - - - - du es doch gegessen! Es hat sehr gut geschmeckt.
- A) Hättest B) Habe
C) Hätten D) Hat
10. **Dezember**, - - - -, **Februar**
- A) November B) Oktober
C) Januar D) März
11. **A**: Seid ihr mit dem Bus nach Antalya gefahren?
B: Nein, wir sind - - - - mit dem Bus gefahren.
- A) nicht B) doch
C) haben D) noch

12.



Das Café ist - - - - dem Supermarkt.

- A) im B) zwischen
C) über D) neben
13. **Am Montag** - - - - **9 Uhr haben wir eine Deutschprüfung.**
- A) am B) um C) zum D) im
14. **Die deutsche Fußballmannschaft spielt - - - - als ihr Gegner.**
- A) gut B) schlecht
C) besser D) kleiner
15. **Ich möchte auch ein Lied** - - - - .
- A) singe B) singst
C) singt D) singen
16. Ali ist 60 kg schwer. Markus ist 70 kg schwer.
Markus ist - - - - als Ali.
- A) schwerer B) gleich
C) leichter D) genauso
17. **Hasan** - - - - **seinem Lehrer ein Brief in Deutsch.**
- A) schreiben B) schreibst
C) schrieb D) geschrieben
18. **Nach der Zahl 19 kommt** - - - - .
- A) achtzehn B) zwanzig
C) siebzehn D) dreißig
19. **Aşağıdakilerin hangisinin Almanca karşılığı yanlış verilmiştir?**
- A) daha çok x mehr
B) daha yavaş x langsamer
C) daha kısa x kürzer
D) daha pahalı x billiger
20. **Welches ist ein Monat im Frühling?**
- A) März B) Dezember
C) Juli D) September

(544) TÜRK DİLİ VE EDEBİYATI – 4

1. Oyunun asıl bölümüdür. Dükkân de- korunda gelişen olaylarda genellikle Kavuklu bir iş arar. Pişekâr'ın ona iş bulmasıyla olaylar gelişir. Dükkâna gelip giden çeşitli müşterilerle ilgili oyunlar da vardır.
Bu parçada orta oyununun hangi bölümüyle ilgili bilgi verilmektedir?
- A) Mukaddime (giriş)
B) Muhavere (söyleşme)
C) Fasil (oyun)
D) Bitiş
2. **Aşağıdaki cümlelerin hangisi anlamca olumludur?**
- A) Beni bir kişi bile anlamıyor bu dünyada.
B) Seni ziyaret etmeyecek değilim.
C) Babam, bizimle memlekete gelmeyecek.
D) Bu soruyu onun çözeceğinden emin değilim.
3. Övücü taklitler yapıp hoş öyküler anlatarak halkı eğlendiren sanatçıya - - - - denir. Bu sanat için tek adamlık tiyatro diyebiliriz.
Bu parçada boş bırakılan yere aşağıdakilerden hangisi getirilmelidir?
- A) âşık B) bilge
C) hakan D) meddah
4. Türk edebiyatının yazılı ilk eserleri olan - - - - , birer söylev olmakla birlikte anı özellikleri de taşımaktadır. XV. yüzyılda Babür Şah'ın yazdığı Babürname ise edebiyatta anı türünün ilk örneği olarak kabul edilmektedir.
Bu parçada boş bırakılan yere aşağıdakilerden hangisi getirilmelidir?
- A) Orhun Yazıtları
B) Kutadgu Bilig
C) Divanü Lügat'it Türk
D) Atabet'ül Hakayık
5. Seninle ilk tanıştığım günü unutamıyorum.
Bu cümledeki anlatım bozukluğunun nedeni aşağıdakilerden hangisidir?
- A) Sözcüğün yanlış anlamda kullanılması
B) Gereksiz sözcük kullanımı
C) Sözcüğün yanlış yerde kullanımı
D) Anlamca çelişen sözcüklerin bir arada kullanılması

1. OTURUM

6. Aşağıdakilerden hangisi 5N-1K ile ilgili bir soru değildir?

- A) Kim? B) Nerede?
C) Nasıl? D) Neyle?

7. Aşağıdaki cümlelerin hangisinde nesne eksikliğinden kaynaklanan bir anlatım bozukluğu vardır?

- A) Kuşlar, özgürce uçuyorlar kırlara doğru.
B) Okula bir saat önce geldi, az önce ayrıldı.
C) Elindeki notlara şöyle bir baktı ve bana uzattı.
D) Çok çalışarak kalıcı başarılar elde edilebilir.

8. - Reklamcılığın kökeni Eski Yunan ve Roma'ya dayanır.

- Ülkemizde basın reklamları 17. yüzyıldan itibaren görülmeye başlanmıştır.
- Reklam metni yalın bir anlatıma sahip olmalıdır.

Bu cümleler doğru-yanlış bakımından değerlendirildiğinde sıralama aşağıdakilerden hangisi olur?

- A) D – Y – D B) Y – Y – Y
C) D – D – D D) Y – D – Y

9. Mademki ölümün önüne geçilemez, ne zaman gelirse gelsin. Sokrates'e "Otuz zalim seni ölüme mahkûm ettiler." denildiği zaman "Tabiat da onları ..." demiş. Bütün dertlerin bittiği yere gideceğiz diye dertlenmek ne buda-lalık! Doğuşumuz nasıl bizim için her şeyin doğuşu olduysa ölümümüz de her şeyin sonu olacaktır. Öyle ise yüz sene daha yaşamayacağız diye ağlamak, yüz sene evvel yaşamadığımızı ağlamak kadar deliliktir.

Bu parça aşağıdakilerden hangisine örnektir?

- A) Anı B) Gezi yazısı
C) Biyografi D) Deneme

10. "Talep yaratma sanatı" olarak tabir edilen kavram aşağıdakilerden hangisidir?

- A) Resim B) Reklam
C) Müzik D) Sinema

11. Deneme türünün kurucusu kabul edilen yazar aşağıdakilerden hangisidir?

- A) Victor Hugo B) Stendhal
C) Montaigne D) Balzac

12. Meksika'nın başkenti Meksiko'nun doğusundaki yanardağ yeniden faaliyete geçti. Meksika Ulusal Afet Önleme Ajansı, yanardağ püskürme faaliyetinin 9 saat kadar sürdüğünü açıkladı. Yanardağdan püsküren kayaların yaklaşık bin metre çapında bir alana savrulduğu kaydedildi.

Bu haber metninde aşağıdakilerden hangisi yoktur?

- A) Ne? B) Nasıl?
C) Nerede? D) Ne zaman?

13. Tercüme ve adaptasyon tarzında eserler vermiştir. Moliere'den çevirdiği ve Zor Nikâh, Zoraki Tabip adını verdiği Türkçeye adapte edilmiş eserleriyle büyük başarı sağlamıştır.

Bu parçada hakkında bilgi verilen sanatçı aşağıdakilerden hangisidir?

- A) Ahmet Vefik Paşa
B) Ahmet Mithat Efendi
C) Namık Kemal
D) Ali Bey

14. Gün geçmezdi ki Enstitü'de konuk olmasın. Yerli, yabancı pek çok önemli kişiler Hasanoğlu'na görmeye gelirlerdi. Kimisi sabah gelir, akşam dönerdi. Kimisi gece yatıya kalırdı. On on iki yataklı büyük bir konukevimiz vardı. Odaların bazısı ikişer kişilik, bazısı birer kişilik. Ankara'dan gelen öğretmenlerimizin de bazısı akşamdan gelip gece burada yatarlardı. Odalar, yataklar basit fakat temizdi. Biraz hoşgörüsü olan herkesi memnun edebilecek durumdaydı.

Bu parça aşağıdaki türlerden hangisine örnektir?

- A) Mektup B) Anı
C) Deneme D) Günlük

15. Müşteri, mağazanın vitrinine şöyle bir göz süzdü ve sonra içeri girdi.

Bu cümledeki anlatım bozukluğunun sebebi aşağıdakilerden hangisidir?

- A) Gereksiz sözcük kullanımı
B) Deyimin yanlış kullanımı
C) Sözcüğün yanlış anlamda kullanılması
D) Özne-yüklem uyumsuzluğu

16. Reklam metinleriyle ilgili aşağıdakilerden hangisi yanlıştır?

- A) Metinde kullanılan sözcükler özenle seçilmelidir.
B) Aktif cümleler kullanılmalıdır.
C) Metin mümkün olduğunca uzatılmalıdır.
D) Cümle ve paragraflar arasında geçişler akıcı olmalıdır.

17. Aşağıdaki eser-sanatçı eşleştirmelerinden hangisi yanlıştır?

- A) Karalama Defteri – Nurettin Topçu
B) Düş'ün Payı – Suut Kemal Yetkin
C) Bize Göre - Ahmet Haşim
D) Bir Avuç Saçma – Refik Halit Karay

18. Aşağıdakilerden hangisi Namık Kemal'in tiyatro türündeki eserlerinden biridir?

- A) Şair Evlenmesi
B) Vatan yahut Silistre
C) Çok Bilen Çok Yanılır
D) Kokona Yatıyor

19. (I) Televizyon büyük bir olağanüstülüktü bizim için. (II) Anteni, ekranı, yayınları çok şaşırtıcıydı. (III) Önceleri haftada iki gün belirli saatlerde yayın vardı. (IV) Sonra haftanın her gününe yayıldı.

Bu parçada numaralanmış cümlelerden hangisinin yüklemi eylemdir?

- A) I. B) II. C) III. D) IV.

20. Birden fazla yüklemi olan cümleler yapıcı sıralı cümledir.

Buna göre aşağıdaki cümlelerin hangisi yapıcı sıralıdır?

- A) Bu akşam dükkânı erken kapatmamız lazım.
B) Çocuklar saklambaç, körebe ve mendil kapmaca oynadı.
C) İşimiz uzun sürecek, yemeklerimizi yiyip devam edelim.
D) Arkadaşlarla kütüphaneye gidip sınava çalıştık.

**TEST BİTTİ.
CEVAPLARINIZI KONTROL EDİNİZ.**

CEVAP KÂĞIDI VE SORU KİTAPÇIĞI İLE İLGİLİ AÇIKLAMALAR

1. Cevap kâğıdınızdaki bilgilerin doğruluğunu kontrol ediniz ve cevap kâğıdınızı mürekkepli kalemle imzalayınız.
2. Cevap kâğıdı üzerinde kodlamalarınızı siyah kurşun kalemle yapınız.
3. Değiştirmek istediğiniz bir cevabı, yumuşak silgiyle cevap kâğıdını örselemeden temizce siliniz ve yeni cevabınızı kodlayınız.
4. Soru kitapçığının sayfalarını görevlilerin uyarıları doğrultusunda kontrol ediniz, baskı hatası var ise değiştirilmesini sağlayınız.
5. Soruların çözümü için size ayrıca boş kâğıt verilmeyecektir. Soru kitapçığının içindeki boş alanları soru çözümleri için kullanabilirsiniz.
6. Her sorunun dört seçeneğinden sadece biri doğrudur. Doğru seçeneği, cevap kâğıdınızın ilgili sütununa soru numarasını dikkate alarak yuvarlağın dışına taşırmadan kodlayınız. Soru kitapçığı üzerinde yapılan cevaplandırmalar dikkate alınmayacaktır.
7. Cevaplamaya istediğiniz dersin sorusundan başlayabilirsiniz. Cevabını bilmediğiniz sorular üzerinde fazla zaman kaybetmeden diğer sorulara geçiniz. Zamanınız kalırsa bu sorulara daha sonra dönebilirsiniz.
8. Yanlış cevaplarınız dikkate alınmadan sadece doğru cevaplarınız üzerinden puanlama yapılacaktır.
9. Soruları ve sorulara verdiğiniz cevapları, yanınızda götürmek amacıyla kaydetmeyiniz; hiçbir şekilde dışarı çıkarmayınız.
10. Sınav bitiminde soru kitapçığı ve cevap kâğıdını salon görevlilerine teslim ediniz.

SALON GÖREVLİLERİNCE SINAV BAŞLAMADAN ÖNCE ADAYLARA YAPILACAK SON UYARILAR

- Soracağınız bir şey varsa şimdi sorunuz, sınav başladıktan sonra sorularınıza cevap verilmeyecektir.
- Başlama zilini bekleyiniz.

Hepinize başarılar dileriz.

(Salon başkanı başlama ve bitiş saatini tahtaya yazacaktır.)

Bu kitapçığın her hakkı saklıdır. Hangi amaçla olursa olsun, kitapçığın tamamının veya bir kısmının Millî Eğitim Bakanlığı Ölçme, Değerlendirme ve Sınav Hizmetleri Genel Müdürlüğünün yazılı izni olmadan kopya edilmesi, fotoğraflarının çekilmesi, bilgisayar ortamına alınması, herhangi bir yolla çoğaltılması, yayımlanması veya başka bir amaçla kullanılması yasaktır. Bu yasağa uymayanlar, doğabilecek cezai sorumluluğu ve kitapçığın hazırlanmasındaki mali külfeti peşinen kabullenmiş sayılır.

21 NİSAN 2018 TARİHİNDE YAPILAN AÇIKÖĞRETİM LİSESİ / MESLEKİ AÇIKÖĞRETİM LİSESİ
2017-2018 ÖĞRETİM YILI 2. DÖNEM SINAVI A KİTAPÇIĞI CEVAP ANAHTARI

(132) TARİH - 2	(134) TARİH - 4	(141) T.C. İNK. T. ATATÜRK - 1	(152) COĞRAFYA - 2
1. B	1. C	1. B	1. B
2. A	2. A	2. A	2. C
3. C	3. D	3. D	3. C
4. B	4. B	4. C	4. A
5. D	5. C	5. A	5. B
6. B	6. D	6. C	6. D
7. D	7. A	7. C	7. A
8. A	8. B	8. B	8. C
9. C	9. C	9. D	9. A
10. D	10. B	10. C	10. C
11. D	11. C	11. C	11. A
12. C	12. A	12. B	12. D
13. D	13. B	13. B	13. C
14. A	14. C	14. A	14. B
15. C	15. D	15. D	15. B
16. B	16. D	16. B	16. A
17. D	17. A	17. D	17. A
18. A	18. A	18. A	18. B
19. B	19. C	19. C	19. D
20. C	20. B	20. D	20. D

(133) TARİH - 3	(136) SEÇ. TARİH - 2	(151) COĞRAFYA - 1	(156) SEÇ. COĞRAFYA - 2
1. A	1. A	1. D	1. B
2. D	2. B	2. B	2. C
3. B	3. A	3. A	3. A
4. A	4. D	4. A	4. B
5. C	5. C	5. C	5. D
6. C	6. C	6. A	6. C
7. D	7. D	7. C	7. A
8. A	8. B	8. D	8. A
9. B	9. A	9. D	9. D
10. A	10. C	10. B	10. C
11. C	11. D	11. C	11. C
12. D	12. B	12. D	12. A
13. B	13. C	13. B	13. B
14. C	14. D	14. A	14. D
15. B	15. A	15. B	15. B
16. A	16. B	16. A	16. A
17. D	17. A	17. B	17. D
18. B	18. C	18. B	18. C
19. A	19. D	19. C	19. B
20. C	20. B	20. D	20. A

21 NİSAN 2018 TARİHİNDE YAPILAN AÇIKÖĞRETİM LİSESİ / MESLEKİ AÇIKÖĞRETİM LİSESİ
2017-2018 ÖĞRETİM YILI 2. DÖNEM SINAVI A KİTAPÇIĞI CEVAP ANAHTARI

(157) SEÇ. COĞRAFYA – 3

1. D
2. A
3. D
4. C
5. B
6. D
7. B
8. A
9. C
10. B
11. A
12. B
13. A
14. C
15. D
16. A
17. D
18. B
19. D
20. C

(164) MATEMATİK – 4

1. C
2. B
3. D
4. C
5. D
6. A
7. D
8. B
9. A
10. D
11. C
12. D
13. A
14. B
15. C
16. B
17. D
18. A
19. C
20. A

(181) ALMANCA – 1

1. A
2. D
3. C
4. B
5. C
6. B
7. A
8. B
9. D
10. A
11. C
12. B
13. A
14. D
15. C
16. A
17. D
18. C
19. B
20. D

(207) SEÇ. PSİKOLOJİ – 2

1. D
2. C
3. B
4. A
5. D
6. C
7. B
8. A
9. B
10. C
11. C
12. A
13. D
14. B
15. D
16. C
17. D
18. B
19. A
20. C

(158) SEÇ. COĞRAFYA – 4

1. B
2. A
3. A
4. D
5. C
6. C
7. D
8. B
9. C
10. A
11. D
12. B
13. D
14. C
15. B
16. C
17. A
18. C
19. D
20. B

(165) SEÇ. MATEMATİK – 1

1. B
2. C
3. B
4. A
5. D
6. C
7. A
8. B
9. A
10. D
11. A
12. D
13. B
14. C
15. D
16. A
17. B
18. C
19. D
20. A

(182) İNGİLİZCE – 2

1. C
2. A
3. A
4. D
5. C
6. B
7. B
8. A
9. D
10. B
11. C
12. D
13. A
14. B
15. D
16. C
17. A
18. D
19. D
20. B

(221) SAĞLIK BİLG. VE
TRAFİK KÜLT – 1

1. D
2. C
3. B
4. C
5. A
6. C
7. D
8. C
9. A
10. B
11. A
12. B
13. C
14. A
15. D
16. C
17. B
18. D
19. D
20. B

21 NİSAN 2018 TARİHİNDE YAPILAN AÇIKÖĞRETİM LİSESİ / MESLEKİ AÇIKÖĞRETİM LİSESİ
2017-2018 ÖĞRETİM YILI 2. DÖNEM SINAVI A KİTAPÇIĞI CEVAP ANAHTARI

(243) FRANSIZCA – 4

1. D
2. A
3. C
4. B
5. B
6. A
7. C
8. C
9. A
10. D
11. B
12. C
13. B
14. D
15. A
16. C
17. C
18. D
19. B
20. A

(244) ALMANCA – 5

1. A
2. B
3. D
4. C
5. B
6. B
7. C
8. D
9. A
10. C
11. A
12. D
13. B
14. C
15. D
16. A
17. C
18. B
19. D
20. A

(244) FRANSIZCA – 5

1. A
2. C
3. A
4. D
5. D
6. B
7. A
8. C
9. B
10. A
11. D
12. C
13. D
14. C
15. B
16. A
17. B
18. C
19. A
20. D

(544) TÜRK DİLİ VE
EDEBİYATI – 4

1. C
2. B
3. D
4. A
5. B
6. D
7. C
8. A
9. D
10. B
11. C
12. D
13. A
14. B
15. B
16. C
17. A
18. B
19. D
20. C